

SATCHASI CHHATRA MANGAL MERIT TALENT SEARCH TEST
(SCMNTST)
2023



REG. NO. : SO010324/1970-71

<p>Name of the Student:</p> <p>Roll No:..... Zone:.....</p> <p>Name of the Centre:</p> <p>Address:</p> <p>.....Pin Code.....</p>	<p>Class: II</p> <p>Full Marks: 100</p> <p>Time: 12 NOON – 2 PM</p> <p>Date of Examination: 7th May, 2023</p> <p>Signature of Invigilator:</p> <p>Signature of Center In-Charge</p>
--	---

FOR STUDENTS

FOR EXAMINER

INSTRUCTIONS

- YOU WILL ANSWER IN QUESTION PAPER
- YOU MUST ANSWER ALL QUESTIONS.
- DO NOT LOOK OTHER & OUTSIDE.
- ONLY CORRECT ONE WILL BE MARKED.
- YOU MAY MARK TICK (V) OR ROUND WITH YOUR PEN.
- DO NOT USE WOOD PENCIL.
- IF YOU WILL MARK TWO/THREE/FOUR, THEN THAT WILL BE CANCELLED.
- YOU DO NOT DO YOUR ROUGH WORK IN THE QUESTION PAPER.
- FIRST YOU THINK AND THEN YOU DO.
- YOUR ACHIEVEMENT IS ONLY FOR YOU.
- IT HAS NO RELATION WITH YOUR REGULAR CLASS RESULT
- ALL QUESTIONS CARRY EQUAL MARK (I.E. 1)
- BEFORE THE FINAL STARTING BELL YOU WRITE YOUR NAME, ROLL NUMBER, ZONE AND ADDRESS.
- 100 QUESTIONS MUST BE ANSWERED WITHIN 2 HOURS.
- NO EXTRA TIME WILL BE GIVEN FOR YOU FOR ANY CIRCUMSTANCE.
- **ONLY YOU CAN DEVELOP YOURSELF.**

TABLE FOR OBTAINED MARKS


TYPE QUESTION	TOTAL MARKS	OBTAINED MARKS
S A T	50 (FIFTY)	
M A T	50 (FIFTY)	
TOTAL	100	

Signature of Examiner:
.....

Signature of Coordinator:
.....

Date:

বিষয়গত সক্ষমতা নির্ণায়ক পরীক্ষা
Subject Ability Test (SAT)
Class - II








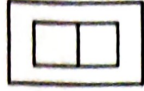
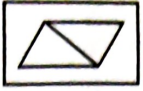
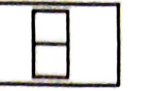



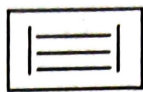
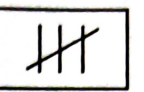
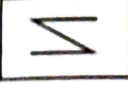



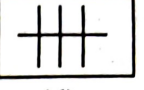

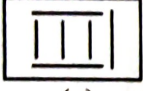

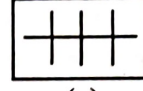

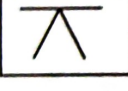
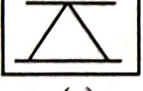
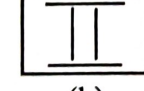
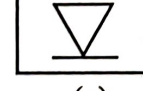
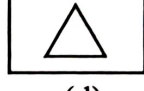
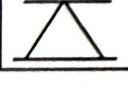
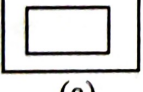
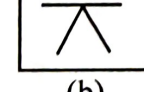
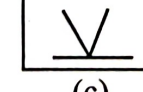
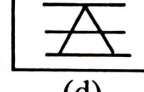

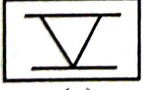
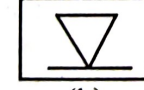
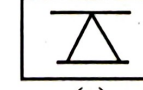


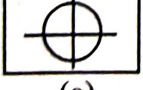
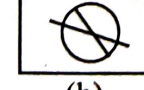
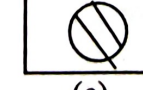
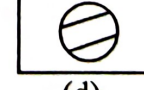
1. নীচের ফাঁকা জায়গায় সঠিক vowel বসিয়ে word তৈরি করো —
M _ NK _ Y
a) A, E b) O, E c) I, E d) F, P
2. EHOSR-এই এলোমেলো letter গুলিকে সঠিকভাবে সাজিয়ে লিখলে আমরা পাবো — একটি প্রাণীর নাম।
a) ROSHE b) HORSE c) ORHSE d) ESHOR
3. শূন্যস্থানে সঠিক Pronoun বসাত।
Rohit is a boy. _____ goes to school.
a) She b) Him c) They d) He
4. This is a Mango বাংলা বাক্যটি লেখ।
a) এই হয় দু'টি আম b) এই হয় তিনটি আম c) এই হয় একটি আম d) এই হয় চারটি আম
5. নীচের কোনটি স্বরবর্ণের উদাহরণ।
a) ক b) ঐ c) গ d) ঘ
6. এলোমেলো বর্ণ সাজিয়ে সঠিক শব্দ তৈরি করো।
লাহলকো
a) ললাকোহ b) কোলাহলা c) হলাকোল d) কোলাহল
7. _____ না তাড়াতে পারলে এবার কাজে ভঙ্গ দিতে হবে।
a) রঙ্গলাল b) হরিণপাল c) পঙ্গপাল d) হাতিরপাল
8. সঠিক বানান কোনটি —
a) পুঙ্করিণি b) পুঙ্করীণি c) পুঙ্করিনী d) পুঙ্করীণি
9. '৫০৬' সংখ্যাটির 'দশক' এর অঙ্ক —
a) ৫ b) ৬ c) ০ d) ৫৬
10. 
এখন ঘড়িতে কটা বাজে?
a) ৯টা ১৫ মিনিট b) ৩টে c) ৯টা d) ৩টে ৪৫ মিনিট
11. নিশাচর প্রাণী হল —
a) হাতি b) শেয়াল c) কুকুর d) বাদুড়
12. বর্তমানে ভারতের রাজধানীর নাম —
a) কলকাতা b) মুম্বাই c) দিল্লি d) চেম্বাই
13. পুরানো দিনের ঘটনাকে বলে —
a) ইতিহাস b) ভূগোল c) ইংরাজী d) বিজ্ঞান
14. মানুষের ব্যবহারের প্রথম ধাতু হল —
a) লোহা b) কাঁসা c) পিতল d) তামা

15. 'পিরামিড' কোন দেশে দেখা যায়?
 a) মিশর b) ভারতবর্ষ c) বাংলাদেশ d) ইংল্যান্ড
16. একটি নীরস ফল হল —
 a) আম b) কলা c) বাদাম d) তরমুজ
17. পৃথিবীকে নীলগ্রহ বলা হয় কারণ —
 a) পৃথিবীর রং নীল b) পৃথিবীতে প্রচুর গাছ আছে c) পৃথিবীতে প্রচুর জল আছে d) পৃথিবীতে প্রচুর বরফ আছে
18. রাতের আকাশে তারাদের ছোটো দেখায় কেন?
 a) ওরা অনেক দূরে আছে বলে b) তারা খুব ছোটো বলে
 c) তারাদের আলো কম বলে c) তারাদের নিজস্ব আলো নেই
19. সূর্যের চারিদিকে পৃথিবীর একবার ঘুরতে সময় লাগে —
 a) ৩০ দিন b) ২৮ দিন c) ৩৫৬ দিন d) ৩৬৫ দিন
20. পৃথিবীতে কটি মহাদেশ আছে —
 a) ৪টি b) ৫টি c) ৬টি d) ৭টি
21. 'পদ্মাসন' একটি —
 a) ছড়া b) গান c) কবিতা d) যোগাসন-এর নাম
22. 'ক্ষ'-এই যুক্তবর্ণটিকে ভেঙে দেখাও।
 a) খ + ষ b) ক + ষ c) ক + স d) খ + স
23. বৈশাখ ও জ্যৈষ্ঠ-এই দুই মাস নিয়ে কোন ঋতু হয় —
 a) শরৎ b) গ্রীষ্ম c) বসন্ত d) শীত
24. অপরাহ্ন বেলা বলতে কেন সময়কে বোঝায় —
 a) সকালবেলা b) দুপুরবেলা c) সন্ধ্যাবেলা d) বিকেলবেলা
25. ছোট্ট মেয়ে কি রঙের শাড়ী রোদ্দুরে দেয় —
 a) কমলা b) লাল c) নীল d) বেগুনি
26. What is the colour of leaf?
 a) yellow b) black c) blue d) green
27. What is the opposite word of 'black'?
 a) red b) green c) blue d) white
28. Which is the last month of a year.
 a) June b) August c) December d) April
29. সাড়ে তিন টাকা বলতে কি বোঝায়?
 a) ১ টাকা ৫০ পয়সা b) ৩ টাকা ৫০ পয়সা c) ৪ টাকা ৫০ পয়সা d) ২ টাকা ৫০ পয়সা
30. $\triangle_{10} + \begin{matrix} \triangle & \triangle & \triangle & \triangle & \triangle \\ \triangle & \triangle & \triangle & \triangle \end{matrix}$ -এর মান কত?
 a) ২০ b) ১৯ c) ২১ d) ২২
31. ফলের মধ্যে কি থাকে?
 a) মূল b) ফুল c) বীজ d) পাতা

32. বিশ্বকবি কাকে বলা হয়?
 a) সুকুমার রায় b) প্রেমেন্দ্র মিত্র c) রবীন্দ্রনাথ ঠাকুর d) লীলা মজুমদার
33. একজন পূর্ণবয়স্ক মানুষের দাঁত কতগুলি?
 a) ৩০টি b) ৩২টি c) ৩৩টি d) ৩১টি
34. তাপমাত্রা মাপার যন্ত্রকে কি বলে?
 a) ব্যারোমিটার b) থার্মোমিটার c) ল্যাক্টোমিটার d) ডেসিমিটার
35. কোন পতঙ্গ কলেরা রোগ ছড়ায়?
 a) মশা b) মাছি c) প্রজাপতি d) আরশোলা
36. কোন গ্রহের বলয় আছে?
 a) শুক্র b) শনি c) বুধ d) পৃথিবী
37. সৌরজগতের সবচেয়ে বড়ো গ্রহের নাম কি?
 a) ইউরেনাস b) নেপচুন c) বৃহস্পতি d) বুধ
38. পশ্চিমবঙ্গের প্রধান খনিজ সম্পদ কি?
 a) কয়লা b) লোহা c) খনিজ তেল d) সোনা
39. আমরা আজ 5টি সারিতে সমান সংখ্যায় ভাগ হয়ে খেতে বসব। আমরা মোট 65 জন বন্ধু একসঙ্গে খেতে বসব। তাহলে একটা সারিতে কত জন বসব?
 a) ১২ b) ১৩ c) ১৪ d) ১৫
40. মান কত? — $25 + 5 - 10$
 a) ১৬ b) ১৫ c) ১৭ d) ১৮
41. ৯০৯ কথায় লেখ।
 a) নয় হাজার নয় b) নয় শত নয় c) নিরানব্বই d) কোনটিই নয়
42. যে কোনো সংখ্যার সাথে কত যোগ করলে সেই সংখ্যাই পাব।
 a) ১ b) ২ c) ৩ d) ০
43. HAT, CAT, MAT, FAT, BAT – odd word is –
 a) HAT b) CAT c) MAT d) FAT
44. ___ L ___ W ___ R
 Choose three letters & make a word -
 a) F, O, E b) P, A, N c) M, A, N d) T, A, N
45. Which vegetable is violet?
 a) potato b) chilli c) cabbage d) brinjal
46. বিপরীত শব্দ লেখো : — ‘প্রসন্ন’
 a) রুপায়ন b) অবকাশ c) আলোকপাত d) লেপন
47. একটি ভেষজ গাছের নাম বল।
 a) তুলসী b) আম c) বেল d) কোনটিই নয়
48. যারা চিঠি বিলি করে তাদের কী বলে?
 a) দারোয়ান b) বাহাদুর c) পিওন d) চৌকিদার
49. সহজপাঠ কার লেখা?
 a) নজরুল ইসলাম b) সুকান্ত ভট্টাচার্য c) রবীন্দ্রনাথ ঠাকুর d) বিদ্যাসাগর
50. প্রোটিনযুক্ত খাবার কোনটি?
 a) ভাত b) মাংস c) ফল d) সব্জি

মানসিক সক্ষমতা নির্ণায়ক পরীক্ষা
Mental Ability Test (MAT)

নির্দেশ :- (51 - 58) বামদিকে একটি ও ডানদিকে চারটি রেখাচিত্র আছে। বামদিকের চিত্রটির সঙ্গে ডানদিকের যে চিত্রটি মিলে যায়, তার সংশ্লিষ্ট বর্ণটি (a বা b বা c বা d) উত্তরের জায়গায় লেখো। একটি উদাহরণ দেওয়া হলো।

উদাহরণ -						a	b	c	(d)
51. 					a	b	c	d	
52. 					a	b	c	d	
53. 					a	b	c	d	
54. 					a	b	c	d	
55. 					a	b	c	d	
56. 					a	b	c	d	
57. 					a	b	c	d	
58. 					a	b	c	d	


নির্দেশ :- নীচের প্রশ্নগুলির চারটি সংখ্যা বা শব্দ দিয়ে তৈরি। প্রতি প্রশ্নে এই চারটির মধ্যে তিনটির কোনো-না-কোনো ভাবে মিল বা সম্পর্ক রয়েছে এবং একটি ভিন্ন। ভিন্নটি খুঁজে তার সংশ্লিষ্ট অক্ষরটি (a বা b বা c বা d) উত্তরের জায়গায় বৃত্ত দিয়ে চিহ্নিত করো।

59.	জানুয়ারি	ডিসেম্বর	মে	এপ্রিল	a	b	c	d
60.	33	44	66	88	a	b	c	d
61.	মঙ্গল	বৃহস্পতি	শনি	পৃথিবী	a	b	c	d

62.	ট্রাম	বাস	ট্যান্ডি	অটোরিক্সা	a	b	c	d
	(a)	(b)	(c)	(d)				
63.	মশা	গোদ	ম্যালেরিয়া	ডেস্‌জুর	a	b	c	d
	(a)	(b)	(c)	(d)				
64.	সাদা	রঙিন	কালো	সবুজ	a	b	c	d
	(a)	(b)	(c)	(d)				
65.	অফিস	আদালত	বিদ্যালয়	মন্দির	a	b	c	d
	(a)	(b)	(c)	(d)				
66.	হজরত মহম্মদ	বুদ্ধদেব	শ্রীচৈতন্য	অরবিন্দ	a	b	c	d
	(a)	(b)	(c)	(d)				
67.	তুঁতুলপাতা	আমপাতা	কাঁঠালপাতা	বটপাতা	a	b	c	d
	(a)	(b)	(c)	(d)				
68.	MN	AB	KD	XY	a	b	c	d
	(a)	(b)	(c)	(d)				
69.	মাছি	পিঁপড়ে	মশা	টিকটিকি	a	b	c	d
	(a)	(b)	(c)	(d)				
70.	L	M	N	O	a	b	c	d
	(a)	(b)	(c)	(d)				

নির্দেশ :- নীচে প্রতি প্রশ্নের (71-100) চারটি বিকল্প উত্তর দেওয়া আছে। ঠিক উত্তরটি বেছে তার সংশ্লিষ্ট বর্ণটি (a বা b বা c বা d) উত্তরের জায়গায় বৃত্ত দিয়ে চিহ্নিত করো।

71. কে ফুটবল খেলা পরিচালনা করেন?
a) রেফারি b) আম্পায়ার c) কোচ d) কোনটিই না
72. 'শ্বাস' আমরা কিসের সাহায্যে নিই?
a) কান b) নাক c) মাথা d) হাত
73. 'ব্রংকাইটিস' রোগের লক্ষণ কী?
a) বুক ব্যথা b) ববি হওয়া c) শ্বাসকষ্ট d) কোনটিই না
74. নীচের কোন পোশাক কাঁচকায় না?
a) সিঁচুটিক b) সুতির c) সোয়েটার d) কোনটিই না
75. সমস্ত শরীরের ব্যায়াম কোন খেলার মাধ্যমে হয়?
a) কবাডি b) সাঁতার c) যোগা d) কোনোটিই নয়
76. পাহাড়ি অঞ্চলে কীভাবে বাড়ি তৈরি হয়?
a) পাথর ও সিমেন্ট দিয়ে b) মাটি ও পাথর দিয়ে c) পাথর ও বালি দিয়ে d) কোনটিই না
77. বেহারা কাদের বলা হয়?
a) বাসের চালকদের b) ঘোড়ার গাড়ির চালকদের c) পালকির বাহকদের d) কোনটিই নয়
78. জাতীয় সংগীতের লেখক হলেন —
a) বঙ্কিমচন্দ্র b) কাজী নজরুল c) রবীন্দ্রনাথ d) সুভাষচন্দ্র
79. কিশলয় শব্দের অর্থ —
a) কেনাপাতা b) কচিপাতা c) কাজের পাতা d) কমাপাতা
80. 'খুকি ও কাঠবেড়ালী' কে লিখেছিলেন?
a) কাজী নজরুল ইসলাম b) সুকুমার রায় c) অন্নদাশংকর d) রবীন্দ্রনাথ
81. সাজবেলা বলতে কোন সময় কাল —
a) প্রভাত b) সন্ধ্যা c) বিকাল d) দুপুর

১২. মা, সখা, সখ্যা, মাসা, গোষ্ঠী এখানে কোনটি বেমানান —
 a) মা b) গোষ্ঠী c) সখ্যা d) মাসা
১৩. বৃষ্টি, পীপড়ি, কামতল, পুণ্ডেশ্বর চক্র, গর্তকেশর চক্র — কোনটি ফুলের অংশ হলেও অংশ নয়?
 a) পীপড়ি b) কামতল c) পুণ্ডেশ্বরচক্র d) গর্তকেশর চক্র
১৪. মের কাঁচা মুর কখন?
 a) ছোট ছোট জনকণা থাকলে b) ফুল পড়ে c) বড় বড় জনকণা থাকলে d) কোনটিই না
১৫. জন্মের শিকড় থেকে ঐশ্বর্যে গী শেখা নয়কার?
 a) নীলা চালানো b) সীতার শেখা c) জন্ম বিজ্ঞান d) জাহাজ চালানো
১৬. কোন প্রাণী মানুষের মতো খাঁড়া হয়ে দাঁড়ায়?
 a) হুম্মান b) ভিন্নাক c) শিম্পানজি d) কুকুর
১৭. কোন সবুজি আমাদের শরীরে অম্লি গঠনে সহায়ক করে?
 a) বনাম b) ঐশ্বর্যনি c) পালংশক d) উচ্ছ
১৮. আশে গী করে আশ্রম জুলন্ত?
 a) পাথরে পাথরে ঘষা লেগে b) গাছে গাছে ঘষা লেগে c) দেশলাই কাঠির সহায়ক d) কোনটি নয়
১৯. পথে হাঁটার সময় রাস্তার কোন দিক ধরে চলতে হবে?
 a) ডানদিক ধরে b) বাঁদিক ধরে c) মাঝখান দিয়ে d) কোনটি নয়
২০. পৃথিবীর সবচেয়ে বড়ো পক্ষির নাম কী?
 a) ঈগল b) বঙ্কশাখি c) উটপাখি d) চিল
২১. ৫, ৮, ১৫, —————, ২৫, ২৮ - শূন্যস্থানের সংখ্যা —
 a) ১৫ b) ১৮ c) ১৬ d) ২০
২২. ২৮ - ১৫ - ১১ - ১ - উত্তর হবে —
 a) ০ b) ১২ c) ১০ d) ১
২৩. তোমার পদ তোমার চেয়ে ২৮ বছরের বড়। তোমার বয়স যদি ১০ বছর হয়, তবে তোমার বাবার বর্তমান বয়স কত?
 a) ৩৮ b) ৩৭ c) ৩৮ d) ৩৯
২৪.  মারের অংশটি নাম লেখিয়ে তরো।
২৫. চারটি এদিকে ০ বানাও —
 a) $৫ \times ৫ - ৫ - ৫$ b) $৫ \times ৫ + ৫ - ৫$ c) $৫ - ৫ + ৫ - ৫$ d) $৫ \div ৫ \times ৫ \div ৫$
২৬. ২ ফুট উঠতে ১ ফুট গিছিয়ে গেলে ১০ ফুট উঠতে কতবার লাগবে?
 a) ৯ বার b) ১০ বার c) ৫ বার d) ৭ বার
২৭. দুই অংকের বৃহত্তম সংখ্যা কত?
 a) ৯৭ b) ৯৮ c) ৯৯ d) ১০
২৮. ৩১, ২১, ৪১, ৫১ অঙ্কক্রমে সাজাও :
 a) ৩১, ২১, ৪১, ৫১ b) ২১, ৩১, ৪১, ৫১ c) ৫১, ৪১, ৩১, ২১ d) কোনটি নয়
২৯. ৮৫, ৯৬, ৭৭, ৬৬, ৬০ উর্ধ্বক্রমে সাজাও :
 a) ৮৫, ৯৬, ৭৭, ৬৬, ৬০ b) ৬০, ৬৬, ৭৭, ৮৫, ৯৬ c) ৯৬, ৮৫, ৭৭, ৬৬, ৬০ d) কোনটি নয়
১০০. ৮৫ সংখ্যাটিতে ৮-এর প্রকৃত মান কত?
 a) ৮ b) ৮০ c) ৮০০ d) ৫