

SATCHASI CHHATRA MANGAL MERIT TALENT SEARCH TEST
(SCMMTST)
2023



REG. NO. : SO010324/1970-71

Name of the Student:
Roll No:..... Zone:.....
Name of the Centre:
Address:
.....Pin Code.....

Class: III
Full Marks: 100
Time: 12 NOON – 2 PM
Date of Examination:
7th May, 2023
Signature of Invigilator:
.....
Signature of Center In-Charge
.....

FOR STUDENTS

INSTRUCTIONS

- YOU WILL ANSWER IN QUESTION PAPER
- YOU MUST ANSWER ALL QUESTIONS.
- DO NOT LOOK OTHER & OUTSIDE.
- ONLY CORRECT ONE WILL BE MARKED.
- YOU MAY MARK TICK (V) OR ROUND WITH YOUR PEN.
- DO NOT USE WOOD PENCIL.
- IF YOU WILL MARK TWO/THREE/FOUR, THEN THAT WILL BE CANCELLED.
- YOU DO NOT DO YOUR ROUGH WORK IN THE QUESTION PAPER.
- FIRST YOU THINK AND THEN YOU DO.
- YOUR ACHIEVEMENT IS ONLY FOR YOU.
- IT HAS NO RELATION WITH YOUR REGULAR CLASS RESULT
- ALL QUESTIONS CARRY EQUAL MARK (I.E. 1)
- BEFORE THE FINAL STARTING BELL YOU WRITE YOUR NAME, ROLL NUMBER, ZONE AND ADDRESS.
- 100 QUESTIONS MUST BE ANSWERED WITHIN 2 HOURS.
- NO EXTRA TIME WILL BE GIVEN FOR YOU FOR ANY CIRCUMSTANCE.
- **ONLY YOU CAN DEVELOP YOURSELF.**

FOR EXAMINER

TABLE FOR OBTAINED MARKS

TYPE QUESTION	TOTAL MARKS	OBTAINED MARKS
S A T	50 (FIFTY)	
M A T	50 (FIFTY)	
TOTAL	100	

Signature of Examiner:
.....

Signature of Coordinator:
.....

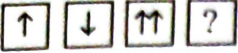
Date:

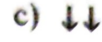
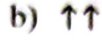
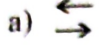
বিষয়গত সক্ষমতা নির্ণায়ক পরীক্ষা
Subject Ability Test (SAT)
Class - III

1. 'সকল ধরা হেসে ওঠে' - এখানে 'ধরা' শব্দটির অর্থ কি?
a) চোরধরা b) পৃথিবী c) সূর্য d) চাঁদ
2. নৌকা যাত্রা কবিতায় কটা পাল তুলে দেওয়ার কথা বলা হয়েছে?
a) পাঁচটা ছটা সাতটা b) চারটে পাঁচটা ছটা c) একশোটি d) কোনোটিই নয়
3. দাওয়া শব্দের অর্থ কি?
a) মাটি b) জল c) বারান্দা d) হাত
4. মাত্রাহীন বর্ণের উদাহরণ হল —
a) প b) গ c) চ d) কোনোটিই নয়
5. Which of the following is a vegetable food?
a) Guava b) Lemon c) Cabbage d) Apple
6. I guard your house. I eat meat. I wag my tail. Who am I?
a) cat b) horse c) cow d) dog
7. A Lizard belongs to family of —
a) Mammal b) Reptiles c) Amphibious d) none of this
8. $8 \times 0 = ?$
a) ৮ b) ২ c) ৩ d) ০
9. ১২৬ এর দশক স্থানীয় অঙ্ক কত?
a) ২ b) ১ c) ৬ d) ০
10. ১৬ এর মধ্যে কতগুলি ২ এর সমষ্টি আছে?
a) ৪টি b) ৬টি c) ৮টি d) একটিও না
11. ১, ২, ৩, ০ ব্যবহার করে চার অঙ্কের কতগুলি সংখ্যা তৈরী করা যাবে?
a) ১টি b) ৩টি c) ৪টি d) ৬টি
12. ৫, ৭, ৩ দ্বারা গঠিত তিন অঙ্কের বৃহত্তম ও ক্ষুদ্রতম সংখ্যাটির সমষ্টি কত?
a) ১১১০ b) ১১১১ c) ১১১২ d) ১১১৩
13. ২, ৩, ৫, ৭, ১১.....?..... — '৭' চিহ্নের স্থানে কত বসবে?
a) ৯ b) ১০ c) ১৩ d) ১৪
14. আমরা নিঃশ্বাসের সঙ্গে কোন গ্যাস ছেড়ে দিই?
a) অক্সিজেন b) কার্বন-ডাই-অক্সাইড c) নাইট্রোজেন d) হাইড্রোজেন
15. সজনের ডাঁটা আসলে কি?
a) ডাঁটা b) ফল c) জল d) ফুল
16. কাঁচা অবস্থায় সজি এবং পাকলে ফল হিসাবে ব্যবহার করা হয় কোনটি?
a) আলু b) বেগুন c) কমলালেবু d) পেঁপে
17. সিঙ্কেটিক সুতো তৈরী হয় কি দিয়ে —
a) খনিজ তেল b) কার্পাস তুলো c) পাট d) বাঁশ থেকে
18. ও.আর.এস. দেওয়া হয় কোন রোগের জন্য?
a) হাম b) ডায়ারিয়া c) জ্বর d) ক্যানসার
19. রবীন্দ্রনাথ ঠাকুর কত সালে নোবেল পুরস্কার পান —
a) ১৯১১ b) ১৯১৬ c) ১৯১২ d) ১৯১৩
20. হাতির ডাককে বলে —
a) বৃহন b) বৃহোন c) বিহং d) হেয়া
21. বাংলাদেশের জাতীয় সংগীতের লেখক হলেন —
a) কাজী নজরুল b) লালন ফকির c) রবীন্দ্রনাথ ঠাকুর d) রাজিয়া খান
22. কোন ঋতুতে আকাশে পেঁজা তুলোর মতো মেঘ দেখা যায়?
a) বর্ষা b) হেমন্ত c) শীত d) শরৎ
23. 'জীবন সর্দার' কোন লেখকের ছদ্মনাম —
a) সত্যেন্দ্রনাথ দত্ত b) সুনীল বন্দ্যোপাধ্যায় c) সুকুমার রায় d) সৎজিৎ রায়
24. A baby deer is called _____
a) Fawn b) Cub c) Calf d) Foal
25. How many days are there in the month of August?
a) 30 b) 28 c) 31 d) 29

26. Which season comes after spring in India?
 a) Monsoon b) Summer c) Winter d) early Autumn
27. Choose the Feminine gender of 'Gander'.
 a) Vixen b) Nanny c) Goose d) duck
28. Arrange the following letters in the right order :- ukcdnigl
 a) cukdnigl b) kucdginl c) duckling d) ludckling
29. What sound does a donkey make?
 a) neigh b) bray c) bleat d) bark
30. Which animal catches mice?
 a) sheep b) dog c) cat d) none of these
31. ০ থেকে ১১ পর্যন্ত কতগুলি মৌলিক সংখ্যা আছে?
 a) ৫ b) ৪ c) ৩ d) ২
32. কোন ঋতুতে পুকুরে পোনা ফেলা হয়?
 a) গ্রীষ্ম b) হেমন্ত c) বর্ষা d) শীত
33. দুধ, জল, আলু, ফল - এদের মধ্যে কোনটি বেমানান —
 a) জল b) দুধ c) আলু d) ফল
34. পুষ্টিকর নয় এমন একটি খাবারের নাম হল —
 a) আলু b) চিপস c) পেরঁয়াজ d) আদা
35. গুরুজন কারা?
 a) যারা আমাদের শিক্ষক b) বাবা, মা, ঠাকুমা ও ঠাকুরদা
 c) বাবা, মা, পরিচিত ও অপরিচিত যারা বয়সে বড়ো d) পরিচিত বয়সে বড়ো যারা
36. নদী যেখানে সাগরে মেশে তাকে কী বলে?
 a) ব-দ্বীপ b) মোহনা c) পাড় d) চর
37. বীজ, ফল, গাছ, ফুল- ক্রমান্বয়ে সাজালে হবে —
 a) ফুল-ফল-বীজ-গাছ b) গাছ-ফুল-ফল-বীজ c) বীজ-ফল-ফুল-গাছ d) বীজ-ফল-গাছ-ফুল
38. নীচের কোনটি খাদ্যের মধ্যে পড়ে না?
 a) মাছের আঁশ b) কাঠালের বীজ c) নারকেলের শাঁশ d) সরষের ফুল
39. পাতাকে গাছের ————— বলা হয়।
 a) রান্নাঘর b) শক্তিঘর c) সবুজঘর d) ছায়াঘর
40. নীচের কোনটি ফুল?
 a) আতা b) চালতা c) আনারস d) কাঁঠাল
41. দুধ, ছানা, পনির, মাখন-শব্দগুলি কার সাথে সম্পর্কিত?
 a) বিড়াল b) গরু c) মানুষ d) শিশু
42. Book is our real friend. Similar of the underline word is —
 a) Enemy b) Companion c) Close person d) Unfriend
43. নীচের কোনটা বাগিচা ফসল?
 a) ধান b) পাট c) আখ d) আম
44. প্যাকেটজাত খাবার কোনর সময় কি দেখে কেনা উচিত?
 a) ওজন b) তারিখ c) প্যাকেট d) কোনোটাই না
45. আলু, টম্যাটো, আম, আনারস-এগুলির মধ্যে কোনটি আমাদের দেশ থেকে অন্য দেশে পাঠানো হয়?
 a) আলু b) আম c) টম্যাটো d) আনারস
46. কোনটি সঠিক নয়?
 a) 100 মিনিট = 1 ঘন্টা 40 মিনিট b) 28 বা 29 দিন = ফেব্রুয়ারী মাস
 c) 52 সপ্তাহ = ১ বছর d) 25 ঘন্টা = 1 দিন 5 ঘন্টা
47. দুধ থেকে তৈরী হয় কোনটি?
 a) চানাচুর b) নিমকি c) ছানা d) চিপস
48. কানামাছি খেলায় কোন ইন্ড্রিয়টির কাজ বন্ধ থাকে?
 a) চোখ b) কান c) নাক d) জিভ
49. কোন ভিটামিনের অভাবে রাতকানা রোগ হয়?
 a) B b) A c) D d) E
50. রক্তাল্পতা রোগে কোনটি কমে যায়?
 a) রক্ত b) RBC c) WBC d) অনুচক্রিকা

মানসিক সক্ষমতা নির্ণায়ক পরীক্ষা
Mental Ability Test (MAT)
Class - III

51.  প্রশ্নচিহ্নের স্থানে নীচের কোনটি হবে —



52. তোমার বাবার বড় ভাইয়ের স্ত্রী তোমার কে হন?

a) জেঠিমা

b) কাকিমা

c) পিসিমা

c) ঠাকুমা

53. প্রশ্নচিহ্নের জায়গায় নিচের কোন সংখ্যাটি বসানো যুক্তিসঙ্গত হবে —

৩০	৪৫	২৮	৩৫
৬০	৯০	৫৬	?

a) ৫০

b) ৬৫

c) ৭০

c) ৮৬

54. কোন রঙের আলো দেখলে গাড়ী চলতে শুরু করে —

a) লাল

b) নীল

c) সাদা

c) সবুজ



55. আগামীকালের পরের দিন রবিবার হলে, গতকাল কি বার?

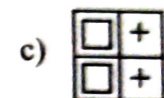
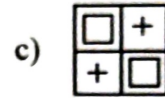
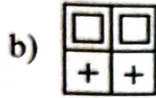
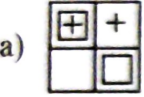
a) বৃহস্পতি

b) শুক্র

c) বুধ

c) শনি

56.  +  = ?



57. পেন + পেন = ১২ টাকা

বই + পেনসিল = ১৬ টাকা

পেন + পেনসিল = ১০ টাকা

উপরের তথ্য অনুযায়ী বই-এর দাম কত টাকা?

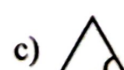
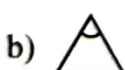
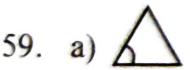
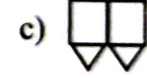
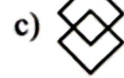

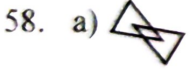
a) ৪

b) ৬

c) ১২

c) ১৬

* নিচের কোনটি অন্যদের থেকে আলাদা?



60. a) মই

b) লিফট

c) সিঁড়ি

d) ছাদ

61. a) সিংহ

b) বাঘ

c) শিয়াল

d) হরিন

62. a) পাতা

b) ফুল

c) ফল


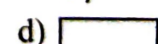
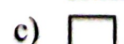
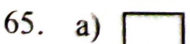
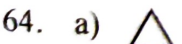
d) মূল

63. a) কুমড়োগাছ

b) লাউগাছ

c) মটর গাছ

d) পুঁইশাক গাছ



67. পশ্চিমবঙ্গ → কলকাতা : ভারতবর্ষ → ?

- a) মুম্বাই b) নতুন দিল্লি c) চেন্নাই d) ব্যাঙ্গালোর

68. রাম তোমার মায়ের বাবার ছেলে, তোমার কে হন?

- a) দাদা b) মামা c) কাকা d) মাসি

69. একজন ছাত্র দিনের ৪ ভাগের মধ্যে ১ ভাগ সময় স্কুলে থাকলে, সে কত ঘন্টা বাড়ি থাকে?

- a) ৬ ঘন্টা b) ১৮ ঘন্টা c) ৪ ঘন্টা d) ১৬ ঘন্টা

70. একটি ঘড়িতে ১০ মিনিট বেশী সময় দেখায়। যদি একটি ঘড়িতে ১২ : ৩০ বাজে, তবে সঠিক সময় কত?


- a) ১২ : ৪০ b) ১২ : ১৫ c) ১২ : ২০ d) ১২ : ৪৫

71. নীচের কোনটি আয়তনে সবচেয়ে বড়ো?

- a) গ্রাম b) অঞ্চল c) থানা d) জেলা

72. যদি BAT = TAB হয়, MAT = TAM হয়, তবে SAT = ?

- a) ATS b) TAS c) STA d) কোনোটিই নয়

73. 

- a)  b)  c)  d) 

74.

A1	B2	C3	
----	----	----	--

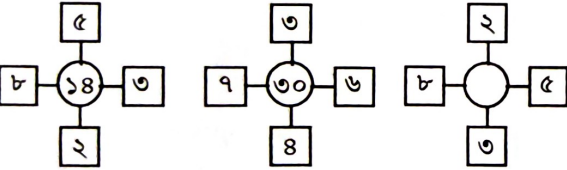
- a) D4 b) B2 c) E5 d) F6

75. দেয়াল ঘড়িতে সেকেন্ডের কাঁটা ১ পাক ঘুরতে সময় লাগে —

- a) ১ সেকেন্ড b) ১ মিনিট c) ১ ঘন্টা d) ১ দিন

76. $৮৮ \div ১১ \div ৮ =$

- a) ০ b) ১ c) ১১ d) ৮

77. 

- a) ২৪ b) ৪৬ c) ৩৪ d) ২১

78. একটি প্যাকেটে ৬টি পেন আছে। $\frac{১}{৩}$ অংশ পেনে লেখা পড়ছে না। প্যাকেটে কতগুলি ভালো পেন আছে?


- a) ২টি b) ৪টি c) ৬টি d) একটিও নয়

79. ক্ষুদ্রতম মৌলিক সংখ্যা —







- a) ১ b) ২ c) ৩ d) ৯

80. পিতার বর্তমান বয়স ৫৩ বছর ১ মাস ১৫ দিন। পুত্র, পিতার চেয়ে ২৮ বছর ৩ মাস ২৫ দিনের ছোটো। পুত্রের বয়স কত?

- a) ২৫ বছর ২ মাস ১০ দিন b) ২৩ বছর ৯ মাস ২০ দিন c) ২৪ বছর ৯ মাস ২০ দিন d) ২৪ বছর ৮ মাস ২০ দিন

81.  চিত্রটিতে মোট বর্গক্ষেত্র আছে —

- a) ৪টি b) ৫টি c) ৬টি d) ৮টি

82. A, D, G, J, শূন্যস্থানে কোন বর্ণটি বসবে?
 a) H b) I c) K d) M
83. একটি লাইনে কমলের অবস্থান বাম দিক থেকে ১৩তম ও ডান দিক থেকে ১২তম হলে, ঐ লাইনে কত জন আছে?
 a) ২৫ b) ২৬ c) ২৪ d) ২৩
84.  ফাঁকা ঘরে কত বসবে?
 a) ৮ b) ১০ c) ৯ d) ৭
85. $৫ + ৭ = ২১$, $৯ + ৪ = ৩১$ লেখা হলে $৭ + ৯ =$ কত হবে?
 a) ১৬ b) ৭১ c) ১৫ d) ৬১
86. কোন রঙের আলো দেখলে গাড়ী ধীরে ধীরে চলতে শুরু করে?
 a) লাল b) নীল c) সবুজ d) হলুদ
87. আগামীকালের পরের দিন রবিবার হলে, গতকাল কি বার?
 a) বৃহস্পতি b) শুক্র c) বুধ d) শনি
88. P এর থেকে Q লম্বা, Q এর থেকে R লম্বা, R এর থেকে S লম্বা হলে সবচেয়ে বেষ্টে কে?
 a) Q b) P c) R d) S
89. কোন সালে বছর ৩৬৬ দিন হবে?
 a) ২০১৯ b) ২০২৪ c) ২০২২ d) ২০২৩
90. ABCDEFGH এই আট বস্তু একটি গোল টেবিলে বসে আছে। A এর উশ্টো দিকে H, B এর উশ্টো দিকে G, C এর উশ্টো দিকে F বসে থাকলে, E এর উশ্টোদিকে কে বসে আছে?
 a) A b) B c) G d) D
91. বেমানটিকে চিহ্নিত কর।
 a) পাতা b) ফল c) ফুল d) চারা
92.  ছবিটি সম্পূর্ণ করতে কোনটি প্রয়োজন?
 a)  b)  c)  d) 
93. তুমি কতটা লম্বা তা মাপার জন্য কোনটা ব্যবহার করা যাবে না?
 a) স্কেল b) মিটার c) ফুট d) ফিতা
94. 'জাতীয় সংগীত' কোনটি?
 a) জনগণ মন b) ধনধান্যে পুষ্পে ভরা c) বন্দে মাতরম d) আমার সোনার বাংলা
95. 'দশ দিক'-এর মধ্যে নীচের কোনটি নেই?
 a) নৈঋত b) অধঃ c) ঋক্ d) অগ্নি
96. "বিশ্ব হিমাচল যমুনা গঙ্গা ————— জলধিতরঙ্গ" — শূন্যস্থান পূরণ কর।
 a) উৎকল b) উৎছল c) উচ্ছল d) উৎছল
97. ১০০ মিটার দৌড় প্রতিযোগিতায় রাজা, রাহুলকে সাড়ে ৫ মিটারে পরাজিত করে। রাজা যখন দৌড় শেষ করে তখন রাহুল কত মিটার গিয়েছিল?
 a) 95.5 মিঃ b) 94.50 মিঃ c) 95.00 মিঃ d) 94.05 মিঃ
98. একটি পুকুরে মাছ প্রতিদিন দ্বিগুন হয়ে যায়। ২৫ দিনে পুকুরটি এভাবে অর্ধেক পূর্ণ হলে কত দিনে পুকুরটি সম্পূর্ণ ভর্তি হবে?
 a) 50 দিনে b) 30 দিনে c) 26 দিনে d) 27 দিনে
99. কার বুদ্ধি সবথেকে বেশী?
 a) হাতি b) শিম্পাঞ্জী c) হনুমান d) কুকুর
100. মোচা কোন গাছে পাওয়া যায়?
 a) কলা b) পেপে c) আলু d) বাঁশ