

# SATCHASI CHHATRA MANGAL MERIT SEARCH TEST 2024 (SCMMST 2024)



**Reg. No.: S0010324/1970-71**

<p><b>Name of the Student:</b> .....</p> <p><b>Roll No:</b> ..... <b>Zone:</b> .....</p> <p><b>Name of the Centre:</b> .....</p> <p><b>Address:</b> .....</p> <p style="text-align: center;">..... <b>Pin Code</b> .....</p>	<p><b>Class : II</b></p> <p>Full Marks : 100</p> <p>Time : 12 Noon – 2PM</p> <p>Date of Examination: 28<sup>th</sup> July, 2024</p> <p>Signature Invigilator: .....</p> <p>Signature of Center-In-Charge .....</p>
--	--

<b>FOR STUDENTS</b>	<b>FOR EXAMINER</b>
---------------------	---------------------

<p style="text-align: center;"><b>INSTRUCTIONS</b></p> <ul style="list-style-type: none"> <li>YOU WILL ANSWER IN QUESTION PAPER.</li> <li>YOU MUST ANSWER ALL QUESTIONS.</li> <li>DO NOT LOOK OTHER &amp; OUTSIDE.</li> <li>ONLY CORRECT ONE WILL BE MARKED.</li> <li>YOU MAY MARK TICK (✓) OR ROUND WITH YOUR PEN.</li> <li>DO NOT USE WOOD PENCIL.</li> <li>IF YOU WILL MARK TWO / THREE / FOUR, THEN THAT WILL BE CANCELLED.</li> <li>YOU DO NOT DO YOUR ROUGH WORK IN THE QUESTION PAPER.</li> <li>FIRST YOU THINK AND THEN YOU DO.</li> <li>YOUR ACHEIVMENT ONLY FOR YOU.</li> <li>IT HAS NO RELATION WITH YOUR REGULAR CLASS RESULT</li> <li>ALL QUESTIONS CARRY EQUAL MARK (I.E. 1)</li> <li>BEFORE THE FINAL STARTING BELL YOU WRITE YOUR NAME, ROLL NUMBER, ZONE AND ADDRESS.</li> <li>100 QUESTIONS MUST BE ANSWERED WITHIN 2 HOURS.</li> <li>NO EXTRA TIME WILL BE GIVEN FOR YOU FOR ANY CIRCUMSTANCE.</li> <li><b>ONLY YOU CAN DEVELOP YOURSELF.</b></li> </ul>	<p style="text-align: center;"><b>TABLE FOR OBTAINED MARKS</b></p> <table border="1" style="width: 100%; border-collapse: collapse; text-align: center;"> <thead> <tr> <th style="width: 33%;">TYPE QUESTION</th> <th style="width: 33%;">TOTAL MARKS</th> <th style="width: 33%;">OBTAINED MARKS</th> </tr> </thead> <tbody> <tr> <td><b>S A T</b></td> <td><b>50 (FIFTY)</b></td> <td></td> </tr> <tr> <td><b>M A T</b></td> <td><b>50 (FIFTY)</b></td> <td></td> </tr> <tr> <td><b>TOTAL</b></td> <td><b>100</b></td> <td></td> </tr> </tbody> </table> <p>Signature of Examiner : .....</p> <p>Signature of Coordinator : .....</p> <p>Date :</p>	TYPE QUESTION	TOTAL MARKS	OBTAINED MARKS	<b>S A T</b>	<b>50 (FIFTY)</b>		<b>M A T</b>	<b>50 (FIFTY)</b>		<b>TOTAL</b>	<b>100</b>	
TYPE QUESTION	TOTAL MARKS	OBTAINED MARKS											
<b>S A T</b>	<b>50 (FIFTY)</b>												
<b>M A T</b>	<b>50 (FIFTY)</b>												
<b>TOTAL</b>	<b>100</b>												

বিষয়গত সক্ষমতা নির্ণায়ক পরীক্ষা

SUBJECT ABILITY TEST (SAT)

Class – II

(Bengali Version)

1x50=50

- 
1. This is \_\_\_\_\_ university.  
a) a      b) the      c) an      d) up
  2. What is the colour of the flower, Lily -  
a) Red      b) Yellow      c) Green      d) White
  3. An elephant has \_\_\_\_\_  
a) Mane      b) Trunk      c) Stripes      d) hump
  4. What is the opposite word of 'Today'?  
a) That day      b) Tomorrow      c) Yesterday      d) Next day
  5. You \_\_\_\_\_ a nice car.  
a) has      b) am      c) is      d) have
  6. Tick ( ✓ ) the odd word.  
a) Kolkata      b) Digha      c) Ganga      d) Haringhata
  7. Birds live in \_\_\_\_\_  
a) Branch      b) Nest      c) Leaf      d) Cage
  8. What is the feminine gender of 'Actor'?  
a) Actor      b) Action      c) Actress      d) Act.
  9. Rearrange the jumbled letters to form meaningful word:  
G, A, F, F, I, R, E  
a) Giffare      b) Giarffe      c) Geraiff      d) Giraffe
  10. Choose the plural word of 'Class'  
a) Classy      b) Classies      c) Classes      d) Classess
  11. In the following sentence choose the word which should be written in capital letter:  
I live at jadurhati with my family  
a) Live      b) Jadurhati      c) Family      d) My

12. সংখ্যায় লেখ - পনের হাজার আট :

- a) ১৫০০৮      b) ১৫০৮      c) ১০৫০৮      d) ১৫৮০

13. ৫০৩ সংখ্যাটিতে ৫ - এর স্থানীয় মান কত?

- a) ৫০      b) ৫০০      c) ৫০০০      d) ৫

14. ১ থেকে ১০ - এর মধ্যে সবচেয়ে ছোট বিজোড় সংখ্যা কোনটি?

- a) ৩      b) ১      c) ৫      d) ৭

15. ৫ - এর আগের ও পরের সংখ্যার যোগফল কত?

- a) ৯      b) ৮      c) ১১      d) ১০

16. কোন্ সংখ্যাকে ২ বার যোগ করলে যা হবে গুণ করলেও তাই হবে?

- a) ৪      b) ৩      c) ২      d) ১

17. সরল কর :  $৮৯ + ৭৮ - ৭৪ = ?$

- a) ৯৩      b) ৯৪      c) ৯৫      d) ৯৮

18. ২৮ দিনে কত সপ্তাহ?

- a) ৩      b) ৪      c) ৫      d) ২

19. ১ ডজন ৩ টি = কত?

- a) ১৩      b) ১৪      c) ১৬      d) ১৫

20. সাড়ে চার টাকা সমান কত টাকা কত পয়সা?

- a) ৪ টাকা ৫০ পয়সা      b) ৪ টাকা ৩০ পয়সা      c) ৪ টাকা ৭৫ পয়সা      d) ৪ টাকা ২৫ পয়সা

21. এক অঙ্কের মোট সংখ্যা কয়টি?

- a) ৮ টি      b) ৭ টি      c) ৯ টি      d) ১০ টি

22. তৃতীয় - এর পূরণবাচক সংখ্যা কি?

- a) ৪ র্থ      b) ৫ ম      c) ৩ য়      d) ৮ ম

23. ২, ৯, ০, ৬ দ্বারা গঠিত বৃহত্তম সংখ্যাটি কত?

- a) ৬০৯২      b) ৯৬২০      c) ৯২০৬      d) ৬০২৯

24. ২, ০, ৩, ১ দ্বারা গঠিত চার অঙ্কের ক্ষুদ্রতম সংখ্যা কোনটি?

- a) ১০২৩      b) ২৩০১      c) ৩২০১      d) ২১০৩

25. যুক্তবর্ণ ভেঙে দেখাও।

ক্ষ = a) খ + য      b) ক + য      c) ক + স      d) খ + স

26. যুক্তবর্ণ ভেঙে দেখাও।

র্গ = a) র + গ      b) গ + র      c) গ + ড়      d) গ + ঢ়

27. যুক্তবর্ণ ভেঙে দেখাও।

প্র = a) র + প      b) প + র      c) প + ড়      d) প + ঢ়

28. বর্ণগুলি জুড়ে যুক্তবর্ণ তৈরী কর।

জ + জ + ব = a) জ্জ      b) জ্ব      c) জ্জ্ব      d) জ্জ

29. 'আঙিনা' শব্দের অর্থ কি?

a) বারান্দা      b) ঘর      c) উঠান      d) বাগান

30. 'হিংসা' শব্দের বিপরীত শব্দ কি?

a) দ্বেষ      b) বিদ্বেষ      c) হিংসুটি      d) অহিংসা

31. 'সাঁঝবেলা' - নিচের কোন শব্দটিকে বোঝায়?

a) দুপুরবেলা      b) অপরাহ্ন      c) সকাল      d) কোনটিই নয়

32. জোড় সংখ্যা সর্বদা কত দ্বারা বিভাজ্য হবে?

a) ৩      b) ৪      c) ৬      d) ২

33. দুই অঙ্কের বৃহত্তম সংখ্যার থেকে ৫ বাদ দিলে কত হবে?

a) ৯৫      b) ৯৪      c) ৯০      d) ৯১

34. রামধনুর কয়টি রং?

a) ৪ টি      b) ৫ টি      c) ৭ টি      d) ৬ টি

35. পশ্চিমবঙ্গের রাজধানীর নাম কি?

a) মুম্বাই      b) দিল্লী      c) চেন্নাই      d) কলকাতা

36. যারা মাটির জিনিস পত্র তৈরী করে তাদের কি বলে?

a) কামার      b) কুমোর      c) রাজমিস্ত্রী      d) কৃষক

37. পৃথিবীর সবচেয়ে ছোট পাখির নাম কি?

a) চড়ুই      b) মুনিয়া      c) মাছরাঙা      d) হামিংবার্ড

38. একটি ভেষজ গাছ হল -

- a) কালমেঘ    b) আম    c) জাম    d) কাঁঠাল

39. একটি উভচর প্রাণী হল -

- a) মাছ    b) কাক    c) ব্যাঙ    d) কোনোটাই নয়

40. আটটি ৯ - এর যোগফল কত?

- a) ২৭    b) ৭২    c) ৩৬    d) ৯০

41. একদিনে কত ঘন্টা হয়?

- a) ১২    b) ৩৬    c) ২৪    d) ২৫

42. ভাগশেষ + ভাগফল X ভাজক = ?

- a) ভাজ্য    b) ভাজক    c) ভাগশেষ    d) ভাগফল

43. তিন দশ তিন = ?

- a) ২০৩    b) ৩২    c) ৩৩    d) ৩০৩

44. আগামীকাল আমাদের ছুটি। এখানে 'আগামীকাল' কথাটি কোন সময়কে বোঝাচ্ছে?

- a) এখনকার    b) পরের    c) আগের    d) কোনটিই নয়

45. মানের অধঃক্রমে সাজাও - ৮৩, ৩৮, ৪৯, ৪৫, ৫৫

- a) ৩৮, ৪৫, ৪৯, ৫৫, ৮৩    b) ৮৩, ৫৫, ৪৯, ৪৫, ৩৮

- c) ৮৩, ৫৫, ৪৫, ৪৯, ৩৮    d) ৮৩, ৫৫, ৩৮, ৪৫, ৪৯

46. The sun rises in the -

- a) East    b) South    c) West    d) North

47. What is the colour of sky?

- a) Green    b) Red    c) White    d) Blue

48. 'মোবাইল' বেশি ব্যবহার করলে অর্থাৎ দেখলে কোন অঙ্গের ক্ষতি হয়?

- a) চোখের    b) দাঁতের    c) ফুসফুসের    d) চামড়ার

49. ৭ই জুন - এর একসপ্তাহ পরের দিনটি কত তারিখ?

- a) ৮ই জুন    b) ১৫ই জুন    c) ১৪ই জুন    d) ১২ই জুন

50. ভারতের প্রজাতন্ত্র দিবস কত তারিখ?

- a) ২৬শে ফেব্রুয়ারী    b) ২৬শে জানুয়ারী    c) ২৬শে মার্চ    d) ২৬শে এপ্রিল

## মানসিক সক্ষমতা নির্ণায়ক পরীক্ষা

### MENTAL ABILITY TEST (MAT)

1x50=50

51. কোনটি আলাদা?

a)  $\rightleftarrows$  b)  $\updownarrow$  c)  $\rightleftarrows$  d)  $\downarrow\downarrow$

52. ঘাস  $\rightarrow$  খরগোশ  $\rightarrow$  ?

a) বাঘ b) গাছ c) পাখি d) মাছ

53. Aa, Bb, Cc, Dd - এর কোনটি আলাদা?

a) Aa b) Bb c) Cc d) Dd

54. রাজমিস্ত্রী = পাকাবাড়ি ; কাঁচাবাড়ি

a) ছুতোর b) ঘরামি c) শ্রমিক d) স্যাকরা

55. ১, ৪, ৯, \_\_\_\_\_, ২৫ শূন্যস্থানে কোন সংখ্যা বসবে?

a) ১২ b) ১৬ c) ২৫ d) ১১

56. Boy, Father, Mother, Uncle - কোনটি অন্যগুলি থেকে আলাদা?

a) Boy b) Father c) Mother d) Uncle

57. ভারতের জাতীয় পতাকার মাঝে কোন চিহ্ন থাকে?

a) চক্র b) অশোকস্তম্ভ c) সিংহ d) বাঘ

58. নৌকা = মাঝি হলে, জাহাজ = ?

a) চালক b) পাইলট c) নাবিক d) কোনটিই নয়

59. ১ = চন্দ্র, ৩ = নেত্র, ৪ = ?

a) পক্ষ b) বসু c) ঋতু d) বেদ

60. কোনটি ফুলের অংশ?

a) পাতা b) কাণ্ড c) মূল d) পাপড়ি

61. AZ, BY, CX, \_\_\_\_\_, \_\_\_\_\_

a) DW, EV, b) DW, EU c) EV, DW d) EU, DW

62. Grandfather is \_\_\_\_\_

a) Father's Father b) Father's Mother  
c) Father's Brother d) None of these

63. নীচের কোন কাজটি করা উচিত?

- a) ভিজে হাতে সুইচ ধরা      b) ছাদের ধারে খেলা  
c) চলন্ত গাড়ী থেকে না নামা      d) ট্রাফিক সিগন্যাল না দেখা

64. নীচের কোনটি লতানো গাছ নয়?

- a) লাউ      b) পাট      c) কুমড়ো      d) সীম

65. ইংরাজী বছরের শেষ মাসের এক মাস আগের মাস কোনটি?

- a) নভেম্বর      b) ডিসেম্বর      c) অক্টোবর      d) সেপ্টেম্বর

66.  + 10 = ?

- a) Ten Cap      b) Cap 10      c) Captain      d) None of these

67. 'EDUCATION' – শব্দে Vowel কয়টি?

- a) 5      b) 6      c) 4      d) 3

68.    

- a) ৩      b) ৫      c) ৯      d) ২১

69. ১০১, ২১১, ৩২১, \_\_\_\_\_ ?

- a) ৪৩১      b) ৪৪২      c) ৪৪৪      d) ৪১১

70. একটি পাখি ৩ ঘর করে ৯ বার লাফালে কোন ঘরে পৌঁছাবে?

- a) ৩০      b) ৩৩      c) ২৪      d) ২৭

71. তোমার পিসির ছেলে তোমার কে হবে?

- a) মামা      b) দাদা      c) কাকা      d) দাদু

72. মাইলাইফ দেখে ইংরাজী সংখ্যা শেখা = ?

- a) নেতাজী      b) গান্ধিজী      c) বিদ্যাসাগর      d) রবীন্দ্রনাথ

73. বিশ্বকবি = ?

- a) বিদ্যাসাগর      b) বিবেকানন্দ      c) নজরুল ইসলাম      d) রবীন্দ্রনাথ

74. মহাত্মা গান্ধী = ?

- a) বাবুজী      b) বাপু      c) কাকু      d) চাচা

75. ক্যারাম খেলাতে কতগুলি গুটি থাকে?

- a) ১৮      b) ১৯      c) ২০      d) ২১

76. হকি খেলা প্রথমে কি নামে পরিচিত হয়?

- a) কমক      b) সাপুরা      c) ইয়ক      d) ইসক

77. প্রজাতন্ত্র দিবস = ?

- a) ২৬ শে February      b) ২৬ শে January      c) ২৬ শে May      d) ২৬ শে June

78. কোন প্রাণীর দেহে থলি থাকে?

- a) হুমুমান      b) জিরাফ      c) কুকুর      d) ক্যাঙ্গারু

79. কে ক্রিকেট খেলা পরিচালনা করেন?

- a) রেফারি      b) আম্পায়ার      c) কোচ      d) কোনোটিই নয়

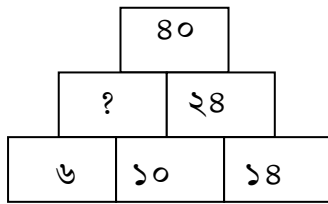
80. কোন অঙ্গের সাহায্যে আমরা স্পর্শ অনুভব করি?

- a) কান      b) ত্বক      c) নাক      d) চোখ

81.  $Xii - iii = ?$

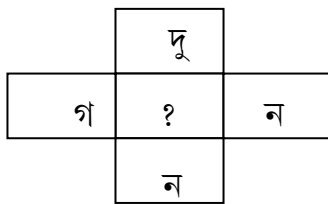
- a) ৮      b) ৯      c) ১০      d) ১২

82. ফাঁকা ঘরে সংখ্যা কি হবে?







- a) ১৫      b) ১৭  
c) ১৬      d) ১৮

83. অর্থপূর্ণ শব্দের বর্ণ খুঁজে বের কর -



- a) ষ      b) শচ  
c) দা      d) জ

84. কোনটি আলাদা?

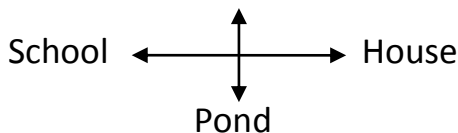
- a)       b)       c)       d) 

85. ঘড়িতে ১২ টা ৩০ মিনিট বাজলে কোন কাঁটাটি ভুল ঘরে আছে?



- a) ঘন্টার      b) মিনিটের  
c) ঘন্টা মিনিটের      d) কোনোটিই নয়

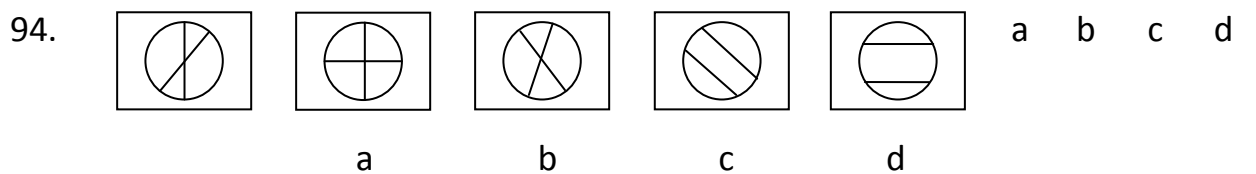
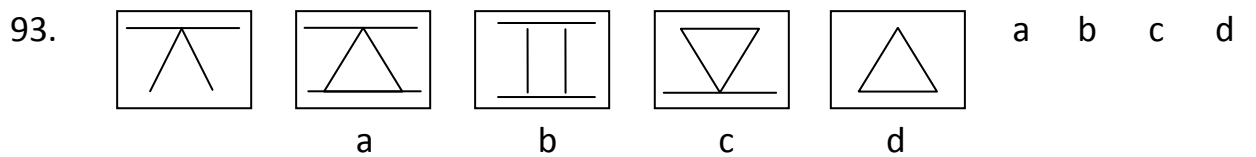
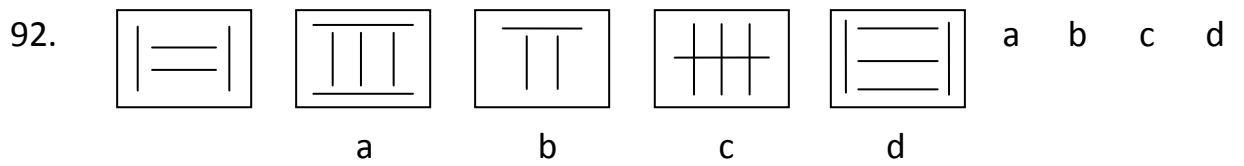
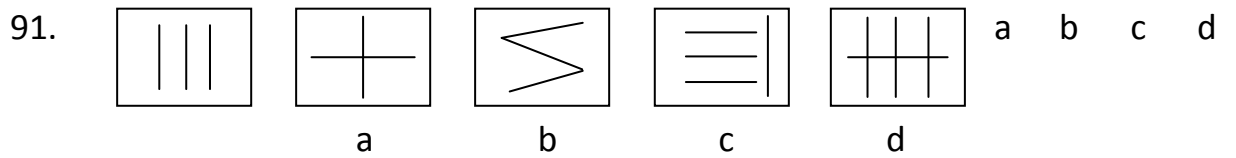
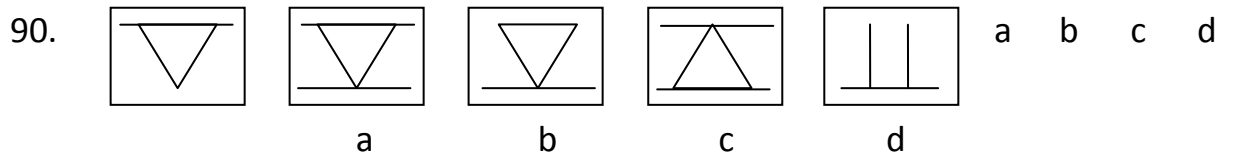
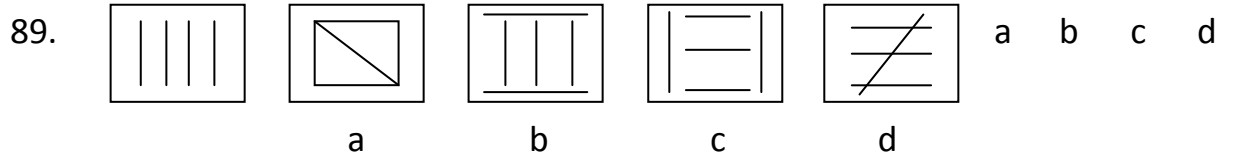
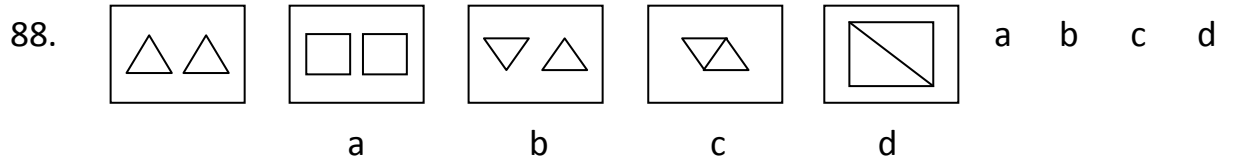
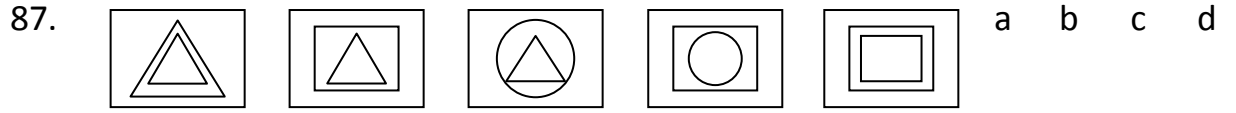
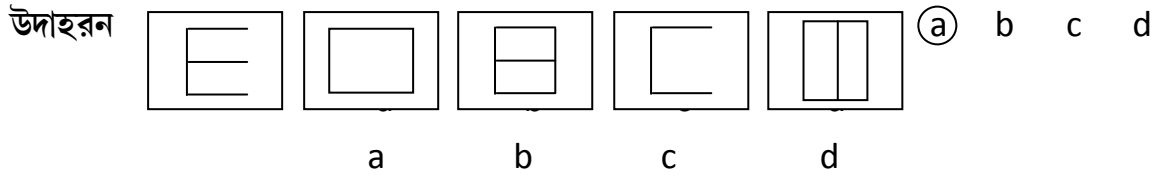
86. Post office      House এর বিপরীতে কী আছে? -



- a) Pond      b) Post office  
c) School      d) None



নির্দেশ : (87 – 94) বামদিকে একটি ও ডানদিকে চারটি রেখাচিত্র আছে। বামদিকের চিত্রটির সঙ্গে ডানদিকে যে চিত্রটি মিলে যায় তার সংশ্লিষ্ট বর্ণটি ( a বা b বা c বা d ) উত্তরের জায়গায় লেখ। একটি করে দেওয়া হলো।



নির্দেশ : নীচের প্রশ্নগুলি চারটি শব্দ দিয়ে তৈরি। প্রতি প্রশ্নে এই চারটির মধ্যে তিনটির কোনো না কোনো ভাবে মিল বা সম্পর্ক রয়েছে এবং একটি ভিন্ন। ভিন্নটি তার সংশ্লিষ্ট অক্ষরটি ( a বা b বা c বা d ) উত্তরের জায়গায় লেখ। একটি করে দেওয়া হলো।

উদাহরণ :	বিমন	প্রদীপ	সুভম	সুভদ্রা	a	b	c	Ⓓ
	a	b	c	d				
95.	কাগজ	বাল্ব	বাতাস	পিঁপড়ে	a	b	c	d
	a	b	c	d				
96.	A	B	C	D	a	b	c	d
	a	b	c	d				
97.	মাছ	মাছরাঙা	জল	জলহস্তী	a	b	c	d
	a	b	c	d				
98.	জল	বরফ	সরবৎ	দুধ	a	b	c	d
	a	b	c	d				

- Choose the word which best describes the given picture:

99. a) Book      b) Atlas      c) Newspaper      d) Diary



100. a) Soldier      b) Teacher      c) Farmer      d) Doctor



SUBJECT ABILITY TEST (SAT)

Class – II

1x50=50

(English Version)

---

1. This is \_\_\_\_\_ University.  
a) a      b) the      c) an      d) up
2. What is the colour of the flower, Lily -  
a) Red      b) Yellow      c) Green      d) White
3. An elephant has \_\_\_\_\_  
a) Mane      b) Trunk      c) Stripes      d) hump
4. What is the opposite word of 'Today'?  
a) That day      b) Tomorrow      c) Yesterday      d) Next day
5. You \_\_\_\_\_ a nice car.  
a) has      b) am      c) is      d) have
6. Tick (✓) the odd word.  
a) Kolkata      b) Digha      c) Ganga      d) Haringhata
7. Birds live in \_\_\_\_\_  
a) Branch      b) Nest      c) Leaf      d) Cage
8. What is the feminine gender of 'Actor'?  
a) Actor      b) Action      c) Actress      d) Act.
9. Rearrange the jumbled letters to form meaningful word:  
G, A, F, F, I, R, E  
a) Giffare      b) Giarffe      c) Geraiff      d) Giraffe
10. Choose the plural word of 'Class'  
a) Classy      b) Classics      c) Classes      d) Classess
11. In the following sentence choose the word which should be written in capital letter:  
I live at jadurhati with my family  
a) Live      b) Jadurhati      c) Family      d) My
12. Write in number – Fifteen thousand eight.  
a) 15008      b) 1508      c) 10508      d) 1580

13. What is the local value of '5' in the number 503?  
 a) 50      b) 500      c) 5000      d) 5
14. Which is the smallest odd number between 1 and 10?  
 a) 3      b) 1      c) 5      d) 7
15. What is the sum of the numbers before and after 5?  
 a) 9      b) 8      c) 11      d) 10
16. Which number remains same by adding two times and multiply?  
 a) 4      b) 3      c) 2      d) 1
17. Simplify it :  $89 + 78 - 74 = ?$   
 a) 93      b) 94      c) 95      d) 98
18. How many week in 28 days?  
 a) 3      b) 4      c) 5      d) 2
19. 1 dozen and 3 = how much?  
 a) 13      b) 14      c) 16      d) 15
20. How much money is equal to four and a half rupees?  
 a) 4 rupees 50 paisa      b) 4 rupees 30 paisa      c) 4 rupees 75 paisa  
 d) 4 rupees 25 paisa
21. How many total numbers in one digit?  
 a) 8      b) 7      c) 9      d) 10
22. What is the complementary number of third?  
 a) 4 th      b) 5 th      c) 3 th      d) 8 th
23. What is the largest number formed by 2, 9, 0, 6?  
 a) 6092      b) 9620      c) 9206      d) 6029
24. What is the smallest four digit number formed by 2, 0, 3, 1?  
 a) 1023      b) 2301      c) 3201      d) 2103
25. যুক্তবর্ণ ভেঙে দেখাও।  
 ক্ষ = a) খ + ষ      b) ক + ষ      c) ক + স      d) খ + স
26. যুক্তবর্ণ ভেঙে দেখাও।  
 গঁ = a) র + গ      b) গ + র      c) গ + ড়      d) গ + ঢ়

27. যুক্তবর্ণ ভেঙে দেখাও।

প্র = a) র + প      b) প + র      c) প + ড      d) প + ঢ

28. বর্ণগুলি জুড়ে যুক্তবর্ণ তৈরী কর।

জ + জ + ব = a) জ      b) জ্ব      c) জ্জ্ব      d) জ্জ

29. 'আঙিনা' শব্দের অর্থ কি?

a) বারান্দা      b) ঘর      c) উঠান      d) বাগান

30. 'হিংসা' শব্দের বিপরীত শব্দ কি?

a) দ্বেষ      b) বিদ্বেষ      c) হিংসুটি      d) অহিংসা

31. 'সাঁঝবেলা' - নিচের কোন শব্দটিকে বোঝায়?

a) দুপুরবেলা      b) অপরাহ্ন      c) সকাল      d) কোনটিই নয়

32. By which number the even number is divisible?

a) 3      b) 4      c) 6      d) 2

33. What is the result of subtracting 5 from the largest two digit number?

a) 95      b) 94      c) 90      d) 91

34. How many colour in Rainbow?

a) 4      b) 5      c) 7      d) 6

35. What is the capital city of West Bengal?

a) Mumbai      b) Delhi      c) Chennai      d) Kolkata

36. What is called who makes clay pots?

a) Blacksmith      b) Potter      c) Mason      d) Farmer

37. Which is the smallest bird in the world?

a) Sparrow      b) Munia      c) Kingfisher      d) Humming Bird

38. One herbs is -

a) Creat      b) Mango      c) Jamun      d) Jackfruit

39. An amphibian is -

a) Fish      b) Crow      c) Frog      d) None of these

40. What is the sum of eight '9'?

a) 27      b) 72      c) 36      d) 90

41. How many hours in a day?  
a) 12      b) 36      c) 24      d) 25
42. Remainder + Quotient x Divisor = ?  
a) Divident      b) Divisor      c) Remainder      d) Quotient
43. Three ten three =?  
a) 203      b) 32      c) 33      d) 303
44. আগামীকাল আমাদের ছুটি। এখানে 'আগামীকাল' কথাটি কোন সময়কে বোঝাচ্ছে?  
a) এখনকার      b) পরের      c) আগের      d) কোনটিই নয়
45. Arrange in descending order of 83, 38, 49, 45, 55  
a) 38, 45, 49, 55, 83      b) 83, 55, 49, 45, 38  
c) 83, 55, 45, 49, 38      d) 83, 55, 38, 45, 49
46. The sun rises in the -  
a) East      b) South      c) West      d) North
47. What is the colour of sky?  
a) Green      b) Red      c) White      d) Blue
48. Which organ will be damaged by using Mobile phone more?  
a) Eye      b) Tooth      c) Lung      d) Skin
49. What is the date after a week of 7<sup>th</sup> June?  
a) 8 June      b) 15 June      c) 14 June      d) 12 June
50. What is the Republic Day of India?  
a) 26 February      b) 26 January      c) 26 March      d) 26 April

51. Which is different?

a)  $\rightleftarrows$     b)  $\updownarrow$     c)  $\rightleftarrows$     d)  $\downarrow\downarrow$

52. Grass  $\longrightarrow$  Rabbit  $\longrightarrow$  ?

a) Tiger      b) Tree      c) Bird      d) Fish

53. Aa, Bb, Cc, Dd - which is different?

a) Aa    b) Bb    c) Cc    d) Dd

54. Mason = Pucca Home; ? = Raw House

a) Carpenter      b) Thatcher      c) Labour      d) Gold smith

55. 1, 4, 9, \_\_\_\_\_, 25

a) 12      b) 16      c) 25      d) 11

56. Boy, Father, Mother, Uncle – which is different from the others?

b) Boy    b) Father    c) Mother    d) Uncle

57. Which symbol is there in the National Flag of India?

a) Chakra    b) Ashoka Pillar    c) Lion    d) Tiger

58. Boat = Boatman; Ship = ?

a) Driver    b) Pilot    c) Sailor    d) None

59. 1 = Chandra , 3 = Netra, 4 = ?

a) Paksha    b) Basu    c) Season    d) Veda

60. Which is the part of the Flower?

a) Leaf    b) Stem    c) Root    d) Petal

61. AZ, BY, CX, \_\_\_\_\_, \_\_\_\_\_

a) DW, EV,      b) DW, EU    c) EV, DW      d) EU, DW

62. Grandfather is \_\_\_\_\_

a) Father's Father      b) Father's Mother  
c) Father's Brother      d) None of these

63. Which of the following should be done?

a) Holding the switch with wet hand      b) Play at the edge of roof  
c) Do not come down from the running car

d) Do not obey Traffic Signal

64. Which of the following is not a creeping plant?

- a) Gourd    b) Jute    c) Pumpkin    d) Bean

65. Which month is one month before the last month of the year?

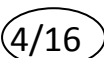



- a) November    b) December    c) October    d) September

66.  + 10 = ?

- a) Ten Cap    b) Cap 10    c) Captain    d) None of these

67. How many vowels in 'EDUCATION'?

- a) 5    b) 6    c) 4    d) 3

68.    

- a) 3    b) 5    c) 9    d) 21

69. 101, 211, 321, \_\_\_\_\_ ?

- a) 431    b) 442    c) 444    d) 411

70. If a bird jumps after three room at a time how many rooms will it jump after 9 times?

- a) 30    b) 33    c) 24    d) 27

71. Who will be your aunt's son?

- a) Uncle    b) Brother    c) Maternal Uncle    d) Grand Father

72. Learning English number by seeing Milestone = ?

- a) Netaji    b) Gandhiji    c) Vidyasagar    d) Rabindranath

73. World poet =?

- a) Vidyasagar    b) Vivekananda    c) Najrul Islam    d) Rabindranath

74. Mahatma Gandhi =?

- a) Babuji    b) Bapu    c) Kaku    d) Chacha

75. How many coins in the carom?

- a) 18    b) 19    c) 20    d) 21

76. What is the first name of Hockey Game?

- a) Kamak    b) Sapura    c) Yok    d) Isak



77. Republic Day =?

- a) 26th February    b) 26th January    c) 26th May    d) 26th June

78. Which animal has sack in its body?

- a) Monkey    b) Giraffe    c) Dog    d) Kangaroo

79. Who operates the Cricket Match?

- a) Referee    b) Umpire    c) Coach    d) None

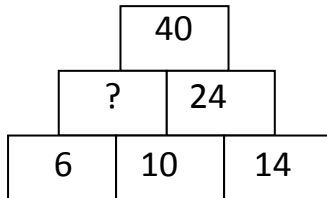
80. By which organ can we feel touch?

- a) Ear    b) Skin    c) Nose    d) Eye

81. Xii – iii =?

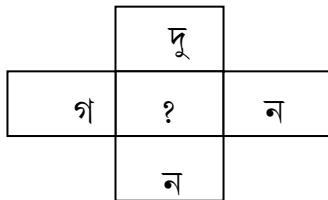
- a) 8    b) 9    c) 10    d) 12

82. What number will be in the empty box?







- a) 15    b) 17  
c) 16    d) 18


83. অর্থপূর্ণ শব্দের বর্ণ খুঁজে বের কর -



- a) ষ    b) শচ  
c) দা    d) জ

84. Which is odd one?

- a)     b)     c)     d) 

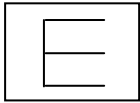
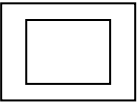
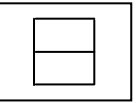
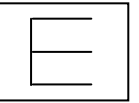
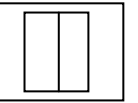
85.  Which hand is at the wrong place when the time is 12:30 O' Clock ?

- a) Hour's    b) Minute's  
c) Hour's – Minute's    d) None



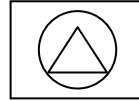
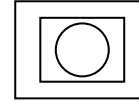
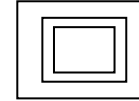
86.  What is at the opposite side of 'House'?

- a) Pond    b) Post office  
c) School    d) None

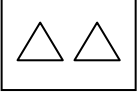
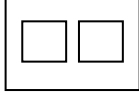

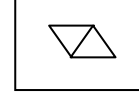
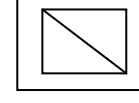
Direction: (87 – 94) there are one diagram on the left and four diagrams on the right side. Write the corresponding letter (a or b or c or d) in the answer space which correspondence to the left and right figure. One is done.

Example:      (a) b c d


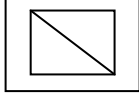
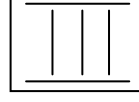
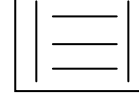
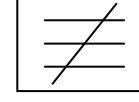
a b c d

87.      a b c d

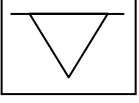
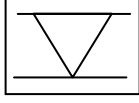
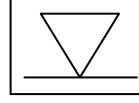
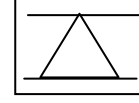
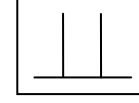
a b c d

88.      a b c d

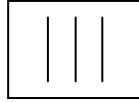
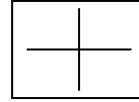
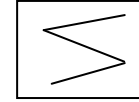
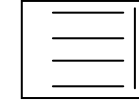
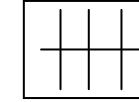
a b c d

89.      a b c d

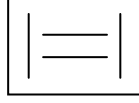
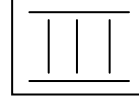
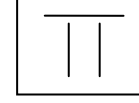
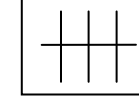
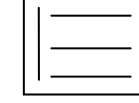
a b c d

90.      a b c d

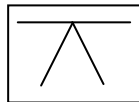
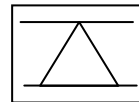
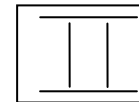
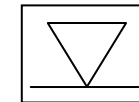
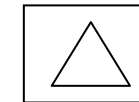
a b c d

91.      a b c d

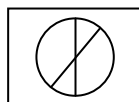
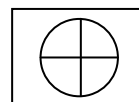
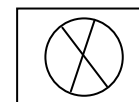
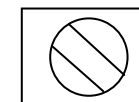
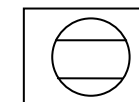
a b c d

92.      a b c d

a b c d

93.      a b c d

a b c d

94.      a b c d

a b c d

Instruction: The questions below are made up of four words. In each question three of these are related in some way and one is different. Circle the different corresponding letter (a or b or c or d) in the answer space. One is done.

Example:	Bimal	Pradip	Suman	Suvadra	a	b	c	(d)
	a	b	c	d				
95.	Paper	Bulb	Air	Ant	a	b	c	d
	a	b	c	d				
96.	A	B	C	D	a	b	c	d
	a	b	c	d				
97.	Fish	Kingfisher	Water	Hippopotamus	a	b	c	d
	a	b	c	d				
98.	Water	Ice	Syrup	Milk	a	b	c	d
	a	b	c	d				

- Choose the word which best describes the given picture:

99. a) Book      b) Atlas      c) Newspaper      d) Diary



100. a) Soldier      b) Teacher      c) Farmer      d) Doctor



## **ROUGH WORK**