

SATCHASI CHHATRA MANGAL MERIT SEARCH TEST 2024 (SCMMST 2024)



Reg. No.: S0010324/1970-71

<p>Name of the Student:</p> <p>Roll No: Zone:</p> <p>Name of the Centre:</p> <p>Address:</p> <p style="text-align: right;">..... Pin Code</p>	<p>Class : III</p> <p>Full Marks : 100</p> <p>Time : 12 Noon – 2PM</p> <p>Date of Examination: 28th July, 2024</p> <p>Signature Invigilator:</p> <p>Signature of Center-In-Charge</p>
---	---

FOR STUDENTS	FOR EXAMINER												
<p style="text-align: center;">INSTRUCTIONS</p> <ul style="list-style-type: none"> YOU WILL ANSWER IN QUESTION PAPER. YOU MUST ANSWER ALL QUESTIONS. DO NOT LOOK OTHER & OUTSIDE. ONLY CORRECT ONE WILL BE MARKED. YOU MAY MARK TICK (✓) OR ROUND WITH YOUR PEN. DO NOT USE WOOD PENCIL. IF YOU WILL MARK TWO / THREE / FOUR, THEN THAT WILL BE CANCELLED. YOU DO NOT DO YOUR ROUGH WORK IN THE QUESTION PAPER. FIRST YOU THINK AND THEN YOU DO. YOUR ACHEIVMENT ONLY FOR YOU. IT HAS NO RELATION WITH YOUR REGULAR CLASS RESULT ALL QUESTIONS CARRY EQUAL MARK (I.E. 1) BEFORE THE FINAL STARTING BELL YOU WRITE YOUR NAME, ROLL NUMBER, ZONE AND ADDRESS. 100 QUESTIONS MUST BE ANSWERED WITHIN 2 HOURS. NO EXTRA TIME WILL BE GIVEN FOR YOU FOR ANY CIRCUMSTANCE. ONLY YOU CAN DEVELOP YOURSELF. 	<p style="text-align: center;">TABLE FOR OBTAINED MARKS</p> <table border="1" style="width: 100%; border-collapse: collapse; text-align: center;"> <thead> <tr> <th style="padding: 5px;">TYPE QUESTION</th> <th style="padding: 5px;">TOTAL MARKS</th> <th style="padding: 5px;">OBTAINED MARKS</th> </tr> </thead> <tbody> <tr> <td style="padding: 5px;">S A T</td> <td style="padding: 5px;">50 (FIFTY)</td> <td style="padding: 5px;"></td> </tr> <tr> <td style="padding: 5px;">M A T</td> <td style="padding: 5px;">50 (FIFTY)</td> <td style="padding: 5px;"></td> </tr> <tr> <td style="padding: 5px;">TOTAL</td> <td style="padding: 5px;">100</td> <td style="padding: 5px;"></td> </tr> </tbody> </table> <p>Signature of Examiner :</p> <p>Signature of Coordinator :</p> <p>Date :</p>	TYPE QUESTION	TOTAL MARKS	OBTAINED MARKS	S A T	50 (FIFTY)		M A T	50 (FIFTY)		TOTAL	100	
TYPE QUESTION	TOTAL MARKS	OBTAINED MARKS											
S A T	50 (FIFTY)												
M A T	50 (FIFTY)												
TOTAL	100												

বিষয়গত সক্ষমতা নির্ণায়ক পরীক্ষা
SUBJECT ABILITY TEST (SAT)
Class – III
(Bengali Version)

1x50=50

1. নীচের কোন শব্দটি 'ঘর' এর সমার্থক শব্দ হয়?
a) গৃহ b) আবাস c) উঠান d) ভবন
2. তাদের দুজনের বড়ই ভাব। এখানে ভাব শব্দের সমার্থক শব্দ কোনটি?
a) ভাবনা b) ঝগড়া c) মতান্তর d) বন্ধুত্ব
3. 'পৃথিবী' শব্দটির সঠিক বর্ণবিশ্লেষণ হল -
ক) প্ + ই + থ্ + ই + র + ঙ্ খ) প্ + ঝ + থ্ + ই + ই + র + র
গ) প্ + ঝ + থ্ + ই + ব্ + ঙ্ ঘ) প্ + রি + থ্ + ঙ্ + ব্ + ঙ্
4. "একসঙ্গে বনের অনেক ঘন গাছ মধ্যে"ঃ সাজালে সঠিক বাক্যটি হয় -
ক) বনের ঘন গাছ একসঙ্গে মধ্যে। খ) গাছ মধ্যে অনেক বনের একসঙ্গে।
গ) ঘন বনের গাছ মধ্যে অনেক একসঙ্গে। ঘ) ঘন বনের মধ্যে একসঙ্গে অনেক গাছ।
5. " মেঘলা আকাশ জুড়ে রামধনুর খেলা", - এই বাক্যে 'বিশেষণ' পদটি হল -
a) রামধনু b) আকাশ c) মেঘলা d) জুড়ে
6. জল, মাটি, আকাশ, বাতাস, বর্ষা - এর মধ্যে বেমানান শব্দ কোনটি?
a) মাটি b) জল c) বাতাস d) বর্ষা
7. 'কড়ি' শব্দের অর্থ কী?
a) কাজ করা b) পয়সা c) অর্থ d) হাত
8. বেমানান শব্দ কোনটি?
a) শশী b) মৃগাঙ্ক c) মহী d) সোম
9. 'নদ' শব্দটির স্ত্রীলিঙ্গ কী?
a) নদী b) নদ c) সাগর d) জলধারা
10. 'নরম' শব্দটির বিপরীত শব্দ হল -
a) নম্র b) নত c) কঠিন d) বিনম্র
11. One of them _____ a robber
a) is b) have c) has d) are

12. The Elephant _____ during the show in the circus
 a) Roars b) howls c) trumpets d) grunts
13. In the _____, the rabbit lived happily.
 a) Kennel b) den c) sty d) burrow
14. Rearrange the following letters to make a meaningful word.
 TROITOES
 a) TORTIOSE b) TROTOISE c) TORTESIO d) TORTOISE
15. _____ I have a glass of water please?
 a) Can b) Would c) May d) Should
16. Use correct form of verb in the blank
 "Rice and curry _____ my favourite dish."
 a) Is b) are c) has d) have
17. It will be _____ (write) by me.
 a) Wrote b) Written c) Write d) Writen
18. A baby 'horse' is called -
 a) Foal b) Puppy c) Calf d) Mare
19. What is the antonym of the word 'Kind'?
 a) Honest b) Benevolent c) Cruel d) Foe
20. Choose the correct plural form of 'Sheep'
 a) Sheep b) Sheeps c) Sheepes d) Ships
21. ভাগশেষ ভাজকের চেয়ে -
 a) ছোটো b) বড়ো c) সমান d) কোনোটিই নয়
22. ২৮০ - এই সংখ্যাটিতে ২ এর স্থানীয় মান -
 a) ২০ b) ২০০ c) ২ d) ২০০০
23. কোন সালটি লিপইয়ার?
 a) ২০২১ b) ২০২২ c) ২০২৪ d) ২০২৫
24. বক্সে কোন চিহ্নটি হবে? ৩৭৮ ৩৮৭
 a) > b) < c) = d) ^

25. ৩৩৩ থেকে ১৪ কমালে পাবো -

- a) ৩২০ b) ৩১৮ c) ৩১৯ d) ৩২১

26. '৪১' সংখ্যাটি -

- a) জোড় b) বিজোড় c) যৌগিক d) a ও b উভয়ই

27. '△' চিত্রটি -

- a) বৃত্তাকার b) বর্গাকার c) ত্রিভুজাকার d) চোঙাকৃতি

28. ৫ টি সংখ্যার গড় ৫ হলে, সংখ্যাগুলির সমষ্টি -

- a) ২০ b) ১৫ c) ৫ d) ২৫

29.

১১	১১১	২২	২২২	
----	-----	----	-----	--

 ফাঁকা ঘরে সংখ্যাটি হবে -

- a) ৩০ b) ২০ c) ৩৩~~X~~ d) ৪৪৪

30. ১২০ মিনিট =? ঘন্টা

- a) ১২০ ঘন্টা b) ২ ঘন্টা c) ৬০ ঘন্টা d) ৩ ঘন্টা

31. নীচের কোনটি পঞ্চ ইন্দ্রিয় নয়?

- a) চুল b) চোখ c) নাক d) জিভ

32. নীচের কোনটি 'স্বন্যপায়ী' নয়? a) গরু b) মানুষ c) চড়ুই d) বাঘ

33. নীচের কোনটি প্রাণীজ খাদ্য নয়?

- a) পনির b) ডিম c) দৈ d) সোয়াবিন

34. নীচের কোনটি শুধুমাত্র শীতের পোষাক নয়?

- a) চাদর b) টুপি c) সোয়েটার d) কোনোটিই নয়

35. কত দিনে একপক্ষ হয়?

- a) ১০ b) ৩০ c) ১৫ d) ৪৫

36. সুকুমার রায় ও সুপ্রভা দেবী উপেন্দ্রকিশোর রায় চৌধুরীর দুই সন্তান হলে, সুপ্রভা দেবী সত্যজিৎ রায়ের কে হন?

- a) মাসি b) পিসি c) কাকীমা d) জেঠিমা

37. আমরা প্রশ্বাসের সাথে কোন গ্যাস গ্রহন করি?

- a) কার্বন-ডাই-অক্সাইড b) নাইট্রোজেন c) অক্সিজেন d) হাইড্রোজেন

38. What is the full form of 'ORS'

- a) Oral Rehydration Solution b) Oral Rehydrate solution

c) Oral Rehydrated Solution d) None

39. মাইটোকন্ড্রিয়াকে গাছের বলা হয়।

a) রান্নাঘর b) ছায়াঘর c) শক্তিঘর d) সবুজঘর

40. দুধ থেকে তৈরী হয় কোনটি?

a) চানাচুর b) নিমকি c) চিপস d) আইসক্রিম

41. সঠিক চিহ্ন বাছাই কর -

দুই হাজার নয় ২০০৯

a) > b) < c) = d) ≠

42. শূন্যস্থানে সঠিক সংখ্যা বসায় - + ৪৩ =

a) ২০৭ b) ২১৭ c) ১১৭ d) ১৯৩

43. কুতুব মিনার কোথায় অবস্থিত?

a) আগ্রা b) হায়দ্রাবাদ c) চেন্নাই d) দিল্লী

44. কোন চরিত্রটি রামায়ণ এবং মহাভারতে পাওয়া যায়?

a) অর্জুন b) শ্রীকৃষ্ণ c) দশরথ d) পরশুরাম

45. কোন রঙের আলো দেখলে সিগন্যালে রাস্তা পেরোতে নেই?

a) সবুজ b) হলুদ c) লাল d) কমলা

46. দাবা খেলার উৎপত্তি কোন দেশে হয়?

a) ইংল্যান্ড b) ভারত c) আমেরিকা d) আফ্রিকা

47. ভারতের জাতীয় ফুল কোনটি?

a) শালুক b) গোলাপ c) জবা d) পদ্ম

48. কোন মহিলা বক্সর সাতটি বিশ্বচ্যাম্পিয়নশিপ প্রতিটিতে পদক জেতেন?

a) সাইনা নেহওয়াল b) মেরি কম c) কারনাম মালেশ্বরী d) কেউই নন

49. সুভাষ চন্দ্র বসু জন্মগ্রহণ করেন কোন সালে?

a) ১৮৯৭ b) ১৮৬৯ c) ১৮৭৯ d) ১৮৮৮

50. ভারতে টেলিভিশন কবে চালু হয়?

a) ১৮৫৯ সালে b) ১৯৯৫ সালে c) ১৮৯৫ সালে d) ১৯৫৯ সালে

মানসিক সক্ষমতা নির্ণায়ক পরীক্ষা

MENTAL ABILITY TEST (MAT)

1x50=50

51. নীচের কোন অঙ্গটির সাথে নিম্নের বর্ণগুলি সম্পর্কিত?

ঙ, ঞ, ন, ম

b) তালু b) ওষ্ঠ c) কণ্ঠ d) নাসিকা

52. ফাঁকাস্থানে সঠিক বর্ণ বসাত - ঠ, ণ, দ, প, _____

b) ড b) ফ c) ব d) ম

53. বেমানান কোনটি চিহ্নিত কর :

a) রবীন্দ্রনাথ ঠাকুর b) নজরুল ইসলাম c) জগদীশ চন্দ্র বসু d) সুকুমার রায়

54. নীচের শব্দ সজ্জায় কোনটি ভুল?

a) কর = হাত b) মৎস্য = মাছ c) আঙিনা = উঠান d) বীনা = বই

55. নীচের কোনটি ভুল জুটি?

b) দিন : রাত b) কালো : লাল c) লম্বা : খাটো d) মিষ্টি : তেতো

56. কোনটি বেমানান?

b) খেই : খেই b) তাই : তাই c) মাঠ : ঘাট d) মানুষ : পশু





57. 'নির্মোক' শব্দটি কোন প্রাণীর সাথে যুক্ত?

a) শামুক b) মাছ c) পাখি d) ব্যাঙ

58. ক্রম অনুযায়ী পরবর্তী বর্ণ কী হবে? ক, চ, ট, ত, _____

a) ব b) শ c) ল d) প

59. বিধু, ধরা ও রবি এদের মধ্যে সম্পর্ক, নিচের কোন চিত্রটি সঠিকভাবে বোঝায়?

a)  b)  c)  d) 

60. বে, নী, আ, স, হ, ক, লা - কীসের সাথে সম্পর্কিত?

a) রঙীন b) হরধনু c) রংধনু d) কোনোটিই নয়

61. Rearrange the letters to form a meaningful word _____ yallsleb

a) Byallsle b) Syllalbe c) Syllable d) Syallable

62. The plural of the word 'Ox' is _____

- a) Oxes b) Oxs c) Oxen d) Oxess

63. The antonym of the word 'Respect' is _____

- b) Love b) Disrespect c) Respectful d) Regard

64. Find out the odd word in the following series -

Wind / Leaf / Flower / Fruit

- b) Leaf b) Flower c) Fruit d) Wind

65. Choose the correct option to fill in the blank

Mr. Basu _____ (teach) English for one hour.

- a) teaches b) is teaching c) has been teaching d) has taught

66. Choose the common noun from the options.

- a) Rohit b) Ranjan c) Boy d) Rimi

67. Fill in the blank with correct option.

News _____ read by me every day.

- a) am b) is c) are d) was

68. Fill in the blank with correct option.

Does _____ go to Kolkata?

- a) you b) I c) We d) he

69. The horse lives in a _____.

- a) stable b) satble c) house d) stablle

70. Find out odd word: Fan / Light / T.V. / Door

- a) Door b) Light c) Fan d) T.V.





71.

↓	↑	?	↓↓
---	---	---	----

 প্রশ্নচিহ্নের স্থানে নীচের কোনটি হবে?

- a) ↑↑ b) ⇒ c) ⇌ d) ⇐

72. নীচের কোনটি অন্যদের থেকে আলাদা?

- a)  b)  c)  d) 

73.

 চিত্রে কয়টি চতুর্ভুজ আছে?

- a) ৫ টি b) ৪ টি c) ১ টি d) ৯ টি

74. ১০০ এর আগের সংখ্যা ও পরের সংখ্যা দুটির যোগফল কত?

- a) ১০১ b) ২০০ c) ৩০০ d) ২০১

75. ভারতের জাতীয় পতাকার চাকায় কটি দাগ আছে?

- b) ১২ টি b) ২৪ টি c) ৩৬ টি d) ২০ টি

76. নীচের চিত্রটি ফাঁকা স্থানে কোন সংখ্যা বসবে?

১	৪	৪
২	৮	৪
৬	১৮	৩
৫	?	৭

- a) ১২ b) ৩৫
c) ১৬ d) ৫৭

77. $১০৯৯ + ২ = ?$

- a) ২০০১ b) ১১১১ c) ১১০১ d) ২০১১

78. ফাঁকা স্থানে কোন সংখ্যা হবে?

- ৪/১৬ ৫/২৫ ~~৩/৩৬~~ ৩/?

- a) ৩ b) ৫ c) ৯ d) ২১

79. $৯ \times ৯ - ১ + ২০ = ?$

- a) ১০০ b) ১০১ c) ৯২ d) কোনোটিই নয়

80. ৯৯, ১০১, ১০৪, ১০৮, _____

- a) ১১৩ b) ১১০ c) ১১৫ d) ১১১

81. এর মধ্যে কোনটি সচেতনতার জন্য জরুরী নয়?

- a) হেলমেট পরে বাইক চালানো b) ভিজে হাতে সুইচ বোর্ডে হাত দেওয়া
c) চলন্ত গাড়ি থেকে না লাফানো d) ঘরের মধ্যে মোবাইল ফোনে কথা বলা।

82. ক্রিকেট খেলার জায়গাকে কী বলে?

- a) রিং b) পিচ c) কোর্ট d) কোনোটিই নয়

83. 'লুডো' খেলার উৎপত্তি হয় কোন দেশে?

- b) ফ্রান্স b) রোম c) আমেরিকা d) ভারত

84. কোন খেলায় 'লাল কার্ড' এবং 'হলুদ কার্ড' এর প্রচলন আছে?

- a) ক্রিকেট b) ফুটবল c) কবাডি d) ভলিবল


85. এর মধ্যে কোনটি জল সংরক্ষণের পদ্ধতি নয়?

- a) বৃষ্টির জল ধরে রাখা b) জল এর পরিমিত ব্যবহার
c) বেশী জলে কাপড় কাচা d) রাস্তার ধারের কল বন্ধ রাখা

86. নীচের কোনটি আলাদা চিহ্নিত কর -
 a) বাষ্প b) জল c) বরফ d) গ্যাস
87. কোনটি জড় পদার্থ চিহ্নিত কর -
 a) গাছ b) কচ্ছপ c) কাকতাদুয়া d) বক
88. নীচের মধ্যে কোনটি কুটির শিল্প নয়?
 a) শোলার কাজ b) বুড়ি বোনা c) স্টীলের বাসন তৈরী d) বেতের কাজ
89. – MAT = TAM, SAT = TAS হয় তবে BAT=?
 a) ATB b) STB c) TAB d) কোনোটিই নয়
90. দেওয়াল ঘড়িতে সেকেন্ডের কাঁটা ১ পাক ঘুরতে সময় লাগে -
 a) ১ সেকেন্ড b) ১ ঘন্টা c) ১ দিন d) ১ মিনিট
91. ভারতের জাতীয় গাছ কোনটি? a) আম b) জাম c) বট d) কাঁঠাল
92. শনির বৃহত্তম উপগ্রহের নাম কি? a) চাঁদ b) টাইটান c) পৃথিবী d) বুধ
93. পৃথিবীতে কোন পদার্থটি সবচেয়ে কঠিন?
 a) কাঁচ b) লোহা c) তামা d) হীরা
94. বিশ্ব পরিবেশ দিবস কবে পালিত হয়?
 a) ১৫ ই আগস্ট b) ৫ ই জুন c) ১৫ ই জুলাই d) ২৬ শে জানুয়ারী
95. ভারতের প্রথম মহিলা রাষ্ট্রপতি কে?
 a) ইন্দিরা গান্ধী b) সরোজিনী নাইডু c) প্রতিভা পাটিল d) কোনোটিই নয়
96. কম্পিউটারের কোন অংশকে এর মস্তিষ্ক বলা হয়?
 a) CPU b) Key Board c) Mouse d) UPS
97. বিশ্বের বৃহত্তম রেইন ফরেস্ট কোনটি?
 a) সুন্দরবন b) আমাজন c) মেঘালয় d) কোনোটিই নয়
98. একমাত্র কোন দেশে আয়তাকার জাতীয় পতাকা নেই?
 a) ভারত b) বাংলাদেশ c) ভূটান d) নেপাল
99. কোন সংখ্যার নিজস্ব রোমান সংখ্যা নেই? a) ২ b) ৬ c) ৩ d) ০
100. কোন দেশের জাতীয় সঙ্গীতে কোন শব্দ নেই কেবল সুর আছে?
 a) স্পেন b) থাইল্যান্ড c) আরব d) ভেনিস

1. নীচের কোন শব্দটি 'ঘর' এর সমার্থক শব্দ হয়?
 - a) গৃহ
 - b) আবাস
 - c) উঠান
 - d) ভবন
2. তাদের দুজনের বড়ই ভাব। এখানে ভাব শব্দের সমার্থক শব্দ কোনটি?
 - a) ভাবনা
 - b) ঝগড়া
 - c) মতান্তর
 - d) বন্ধুত্ব
3. 'পৃথিবী' শব্দটির সঠিক বর্ণবিশ্লেষণ হল -
 - ক) প্ + ই + থ্ + ই + র + ঙ্
 - খ) প্ + ঋ + থ্ + ই + ই + র + র
 - গ) প্ + ঋ + থ্ + ই + ব্ + ঙ্
 - ঘ) প্ + রি + থ্ + ঙ্ + ব্ + ঙ্
4. "একসঙ্গে বনের অনেক ঘন গাছ মধ্যে"ঃ সাজালে সঠিক বাক্যটি হয় -
 - ক) বনের ঘন গাছ একসঙ্গে মধ্যে।
 - খ) গাছ মধ্যে অনেক বনের একসঙ্গে।
 - গ) ঘন বনের গাছ মধ্যে অনেক একসঙ্গে।
 - ঘ) ঘন বনের মধ্যে একসঙ্গে অনেক গাছ।
5. "মেঘলা আকাশ জুড়ে রামধনুর খেলা", - এই বাক্যে 'বিশেষণ' পদটি হল -
 - a) রামধনু
 - b) আকাশ
 - c) মেঘলা
 - d) জুড়ে
6. জল, মাটি, আকাশ, বাতাস, বর্ষা - এর মধ্যে বেমানান শব্দ কোনটি?
 - a) মাটি
 - b) জল
 - c) বাতাস
 - d) বর্ষা
7. 'কড়ি' শব্দের অর্থ কী?
 - a) কাজ করা
 - b) পয়সা
 - c) অর্থ
 - d) হাত
8. বেমানান শব্দ কোনটি?
 - a) শশী
 - b) মৃগাঙ্ক
 - c) মহী
 - d) সোম
9. 'নদ' শব্দটির স্ত্রীলিঙ্গ কী?
 - a) নদী
 - b) নদ
 - c) সাগর
 - d) জলধারা
10. 'নরম' শব্দটির বিপরীত শব্দ হল -
 - a) নম্র
 - b) নত
 - c) কঠিন
 - d) বিনম্র
11. One of them _____ a robber
 - a) is
 - b) have
 - c) has
 - d) are
12. The Elephant _____ during the show in the circus
 - a) roars
 - b) howls
 - c) trumpets
 - d) grunts

13. In the _____, the rabbit lived happily.
 a) Kennel b) den c) sty d) burrow
14. Rearrange the following letters to make a meaningful word.
 TROITOE
- a) TORTIOSE b) TROTOISE c) TORTESIO d) TORTOISE
15. _____ I have a glass of water please?
 a) Can b) Would c) May d) Should
16. Use correct form of verb in the blank
 "Rice and curry _____ my favourite dish."
 a) is b) are c) has d) have
17. It will be _____ (write) by me.
 a) Wrote b) Written c) Write d) Writen
18. A baby 'horse' is called -
 a) Foal b) Puppy c) Calf d) Mare
19. What is the antonym of the word 'Kind'?
 a) Honest b) Benevolent c) Cruel d) Foe
20. Choose the correct plural form of 'Sheep'
 a) Sheep b) Sheeps c) Sheepes d) Ships
21. Remainder is _____ than Divisor?
 a) smaller b) bigger c) equal d) None
22. 280- what is the local value of 2 in this number?
 a) 20 b) 200 c) 2 d) 2000
23. Which year is Leap Year?
 a) 2021 b) 2022 c) 2024 d) 2023
24. Which sign will be in the given box
 378 387
 a) > b) < c) = d) ^
25. If 14 is reduced from 333, we will be found -

- a) 320 b) 318 c) 319 d) 321
26. '41' Number -
 a) Even b) Uneven c) Compound d) a and b both
27.  - this Figure -
 a) Circular b) Square c) Triangular d) Tubal
28. If the 5 is average of 5 then the sum of the number is -
 a) 20 b) 15 c) 5 d) 25
29.

11	111	22	222	
----	-----	----	-----	--

 the number will be -
 a) 30 b) 20 c) 33~~3~~ d) 444
30. 120 minutes =? Hours
 a) 120 Hours b) 2 Hours c) 60 Hours d) 3 Hours
31. Which of the following is not a five sense?
 a) Hair b) Eye c) Nose d) Tongue
32. Which one of the following is not a mammal?
 a) Cow b) Man c) Sparrow d) Tiger
33. Which of the following is not an animal food?
 a) Cheese b) Egg c) Curd d) Soyabin
34. Which of the following is not only the winter dress?
 a) Sheet b) Cap c) Sweter d) Nothing
35. How many days take to be fortnight?
 a) 10 b) 30 c) 15 d) 45
36. If Sukumar Roy and Suparna Devi are the two children of Upendrakishore Roy Chowdhury, Who is Suparna Devi to Satyajit Roy?
 a) Maternal Aunt b) Aunt c) Kakima d) Jethima
37. Which gas do we take in with respiration?
 a) carbon-di-oxide b) Nitrozen c) Oxygen d) Hydrozen
38. What is the full form of 'ORS'
 a) Oral Rehydration Solution b) Oral Rehydrate solution
 c) Oral Rehydrated Solution d) None

39. Mitochondria is called _____ of the plants.
a) Kitchen b) Shade House c) energy House d) Green house
40. Which is made from the Milk?
a) Chanachur b) Nimki c) Chips d) Icecream
41. Select the correct Mark. –
Two thousand nine 2009
a) > b) < c) = d) ≠
42. Put the correct number in the box + 43 = 250
a) 207 b) 217 c) 117 d) 193
43. Where is Kutubminar located?
a) Agra b) Hyderabad c) Chennai d) Delhi
44. Which character is found in Ramayan and Mahabharata?
a) Arjun b) Sri Krishna c) Dasharath d) Parshuram
45. Do not cross the road on the signal if you see which colour?
a) Green b) Yellow c) Red d) Orange
46. In which country the game of chess has been originated?
a) England b) India c) America d) Africa
47. Which flower is the National flower of India?
a) Water lily b) Rose c) Chinese Hibiscus d) Lotus
48. Which lady boxer has won medals in seven world championship?
a) Saina Nehwal b) Merry Com c) Karnam Maleswari d) None
49. Subhash Chandra Bose was born in _____?
a) 1897 b) 1869 c) 1879 d) 1888
50. When was the television launched in India?
a) 1859 b) 1995 c) 1895 d) 1959

51. নীচের কোন অঙ্গটির সাথে নিম্নের বর্ণগুলি সম্পর্কিত?

ঙ, ঞ, ন, ম

b) তালু b) ওষ্ঠ c) কণ্ঠ d) নাসিকা

52. ফাঁকাস্থানে সঠিক বর্ণ বসাত - ঠ, ণ, দ, প, _____

b) ড b) ফ c) ব d) ম

53. বেমানান কোনটি চিহ্নিত কর :

a) রবীন্দ্রনাথ ঠাকুর b) নজরুল ইসলাম c) জগদীশ চন্দ্র বসু d) সুকুমার রায়

54. নীচের শব্দ সজ্জায় কোনটি ভুল?

a) কর = হাত b) মৎস্য = মাছ c) আঙিনা = উঠান d) বীনা = বই

55. নীচের কোনটি ভুল জুটি?

b) দিন : রাত b) কালো : লাল c) লম্বা : খাটো d) মিষ্টি : তেতো

56. কোনটি বেমানান?

b) ধৈই : ধৈই b) তাই : তাই c) মাঠ : ঘাট d) মানুষ : পশু

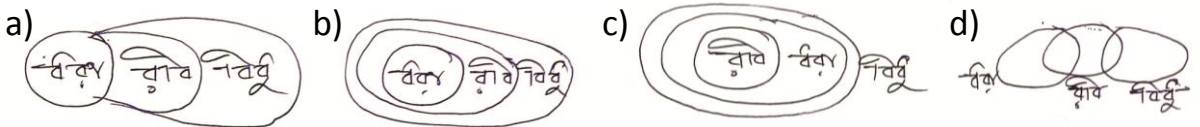
57. 'নির্মোক' শব্দটি কোন প্রাণীর সাথে যুক্ত?

a) শামুক b) মাছ c) পাখি d) ব্যাঙ

58. ক্রম অনুযায়ী পরবর্তী বর্ণ কী হবে? ক, চ, ট, ত, _____

a) ব b) শ c) ল d) প

59. বিধু, ধরা ও রবি এদের মধ্যে সম্পর্ক, নিচের কোন চিত্রটি সঠিকভাবে বোঝায়?



60. বে, নী, আ, স, হ, ক, লা - কীসের সাথে সম্পর্কিত?


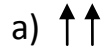
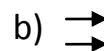
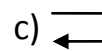
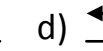
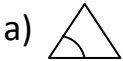
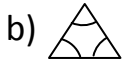
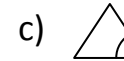
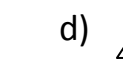
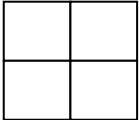
a) রঙীন b) হরধনু c) রংধনু d) কোনোটিই নয়

61. Rearrange the letters to form a meaningful word _____ yallsleb

a) Byallsle b) Syllalbe c) Syllable d) Syllable

62. The plural of the word 'Ox' is _____

a) Oxes b) Oxs c) Oxen d) Oxess

63. The antonym of the word 'Respect' is _____
 b) Love b) Disrespect c) Respectful d) Regard
64. Find out the odd word in the following series -
 Wind / Leaf / Flower / Fruit
 b) Leaf b) Flower c) Fruit d) Wind
65. Choose the correct option to fill in the blank
 Mr. Basu _____ (teach) English for one hour.
 a) teaches b) is teaching c) has been teaching d) has taught
66. Choose the common noun from the options.
 a) Rohit b) Ranjan c) Boy d) Rimi
67. Fill in the blank with correct option.
 News _____ read by me every day.
 a) am b) is c) are d) was
68. Fill in the blank with correct option.
 Does _____ go to Kolkata?
 a) you b) I c) We d) he
69. The horse lives in a _____.
 a) stable b) satble c) house d) stablle
70. Find out odd word: Fan / Light / T.V. / Door
 a) Door b) Light c) Fan d) T.V.
71.  which sign will be at Question Mark?
 a)  b)  c)  d) 
72. Which figure is odd from the others?
 a)  b)  c)  d) 
73.  How many box in this figure?
 a) 5 b) 4 c) 1 d) 9
74. Which is the sum of the previous number and next number of 100?
 a) 101 b) 200 c) 300 d) 201

75. How many mark in the circle of Indian National Flag?

- a) 12 b) 24 c) 36 d) 20

76. Which number will be fit in the blank space?

- | | | | | |
|---|---|---|-------|-------|
| ① | ④ | ④ | a) 12 | b) 35 |
| ② | ⑧ | ④ | c) 16 | d) 57 |
| ⑥ | ⑱ | ③ | | |
| ⑤ | ? | ⑦ | | |

77. $1099 + 2 = ?$ a) 2001 b) 1111 c) 1101 d) 2011

78. Which number will be in the blank space?

- ④/16 ⑤/25 ~~③/36~~⁶ ③/?

- a) 3 b) 5 c) 9 d) 21

79. $9 \times 9 - 1 + 20 = ?$

- a) 100 b) 101 c) 92 d) None

80. 99, 101, 104, 108, _____? a) 113 b) 110 c) 115 d) 111

81. Which of these is not important for awareness?

- a) Riding bike wearing helmet b) Touching the switch board with wet hands
c) Not jumping from a running car d) Talking on a mobile in the room

82. What is the name of the place where cricket is played?

- a) Ring b) Pitch c) Court d) None

83. In which country the game of Ludo is originated?

- a) France b) Rome c) America d) India

84. Which sport has the practice of 'red card' and 'yellow card'?

- a) Cricket b) Football c) Kabadi d) Volleyball

85. Which is not the good method to preserve water?

- a) Retention of rain drops b) Limited use of water
c) Washing clothes in excess water d) Put the tap off at the road side.

86. Which is odd from the followings? a) Vapour b) Water c) Ice d) Gas

87. Identify which is an inert substance -

- a) Tree b) Tortoise c) Scarecrow d) Osprey

88. Which is not the cottage industry?

- a) Artistry of Indian cork b) Basket weaving
c) Making utensil with steel d) Artistry of care

89. MAT = TAM, SAT = TAS, BAT=?

- a) ATB b) STB c) TAB d) None

90. How much time does the second hand on the wall take to complete one round to rotate?

- a) 1 Second b) 1 hour c) 1 Day d) 1 minute

91. Which is the national tree of India?

- a) Mango b) Jamun c) Banyan d) Jackfruit tree

92. Which is the largest satellite of Saturn?

- a) Moon b) Titan c) Earth d) Mercury

93. Which substance is the hardest on this earth?

- a) Glass b) Iron c) Copper d) Diamond

94. When the world environment day is observed?

- a) 15th August b) 5th June c) 15th July d) 26th January

95. Who is the first woman president of India?

- a) Indira Gandhi b) Sarojini Naidu c) Pratiba Patil d) None

96. Which part of the computer is called its brain?

- a) CPU b) Key Board c) Mouse d) UPS

97. Which is the World's largest rain forest?

- a) Sundarban b) Amazon c) Meghalaya d) None

98. Which country alone does not have a rectangular national flag?

- a) India b) Bangladesh c) Bhutan d) Nepal

99. Which number does not have its own Roman numeral?

- a) 2 b) 6 c) 3 d) 0

100. Which country has no words in its national anthem but has tune only?

- a) Spain b) Thailand c) Arabia d) Venice