

SATCHASI CHHATRA MANGAL MERIT SEARCH TEST (SCMMST) 2024



Reg. No.: S0010324/1970-71

<p>Name of the Student:</p> <p>Roll No: Zone:</p> <p>Name of the Centre:</p> <p>Address:</p> <p>..... Pin Code</p>	<p>Class : V</p> <p>Full Marks : 100</p> <p>Time : 12 Noon – 2PM</p> <p>Date of Examination: 28th July, 2024</p> <p>Signature Invigilator:</p> <p>Signature of Center-In-Charge</p>
--	---

FOR STUDENTS	FOR EXAMINER
---------------------	---------------------

<p style="text-align: center;">INSTRUCTIONS</p> <ul style="list-style-type: none"> YOU WILL ANSWER IN QUESTION PAPER. YOU MUST ANSWER ALL QUESTIONS. DO NOT LOOK OTHER & OUTSIDE. ONLY CORRECT ONE WILL BE MARKED. YOU MAY MARK TICK (✓) OR ROUND WITH YOUR PEN. DO NOT USE WOOD PENCIL. IF YOU WILL MARK TWO / THREE / FOUR, THEN THAT WILL BE CANCELLED. YOU DO NOT DO YOUR ROUGH WORK IN THE QUESTION PAPER. FIRST YOU THINK AND THEN YOU DO. YOUR ACHEIVMENT ONLY FOR YOU. IT HAS NO RELATION WITH YOUR REGULAR CLASS RESULT ALL QUESTIONS CARRY EQUAL MARK (I.E. 1) BEFORE THE FINAL STARTING BELL YOU WRITE YOUR NAME, ROLL NUMBER, ZONE AND ADDRESS. 100 QUESTIONS MUST BE ANSWERED WITHIN 2 HOURS. NO EXTRA TIME WILL BE GIVEN FOR YOU FOR ANY CIRCUMSTANCE. ONLY YOU CAN DEVELOP YOURSELF. 	<p style="text-align: center;">TABLE FOR OBTAINED MARKS</p> <table border="1" style="width: 100%; border-collapse: collapse; text-align: center;"> <thead> <tr> <th style="width: 33%;">TYPE QUESTION</th> <th style="width: 33%;">TOTAL MARKS</th> <th style="width: 33%;">OBTAINED MARKS</th> </tr> </thead> <tbody> <tr> <td>S A T</td> <td>50 (FIFTY)</td> <td></td> </tr> <tr> <td>M A T</td> <td>50 (FIFTY)</td> <td></td> </tr> <tr> <td>TOTAL</td> <td>100</td> <td></td> </tr> </tbody> </table> <p>Signature of Examiner :</p> <p>Signature of Coordinator :</p> <p>Date :</p>	TYPE QUESTION	TOTAL MARKS	OBTAINED MARKS	S A T	50 (FIFTY)		M A T	50 (FIFTY)		TOTAL	100	
TYPE QUESTION	TOTAL MARKS	OBTAINED MARKS											
S A T	50 (FIFTY)												
M A T	50 (FIFTY)												
TOTAL	100												

SUBJECT ABILITY TEST (SAT)

Class – V

1x50=50

(Bengali Version)

1. The children were playing happily with their toys. Choose the adverb from the above sentence.

- i) Children ii) Playing iii) Happily iv) their

2. “Stop ” shorted the teacher. Put the correct punctuation mark in the box.

- i) comma (,) ii) Question mark (?) iii) Semi colon (;) iv) exclamatory mark (!)

3. _____ did he come to my home? Fill in the blank with correct ‘wh’ word from below.

- i) Where ii) When iii) Whom iv) What

4. Alex is going to be _____ engineer.

- i) a ii) an iii) the iv) none of those

5. She was wearing _____ splendid outfit

- i) a ii) an iii) the iv) none of those

6. The programme will start _____ 11 a.m.

- i) at ii) from iii) on iv) with

7. Fill in the blank with possessive pronoun. The garden is _____.

- i) them ii) their iii) theirs iv) our

8. Fill in the blanks with correct form of the verb.

He _____ the school just now.

- i) reach ii) reaches iii) has reached iv) reached

9. Kalis older brother taught _____ how to ride a bicycle.

Write the correct pronoun

- i) they ii) us iii) our iv) his

10. Choose which one is an abstract noun

- i) silence ii) class iii) wood iv) child

11. Identify the underlined adjective Whose jacket is this?

- i) possessive ii) Interrogative iii) Descriptive iv) distributive

12. Write the opposite gender of 'Duke'

- i) Duch ii) Duchess iii) Dukes iv) Drake

13. Radha is _____ an paper boat.

- i) makes ii) made iii) has made iv) making

14. 'প্রশ্ন' কবিতাটি কে লিখেছেন?

- ক) সুকুমার রায় খ) অন্নদাশঙ্কর রায় গ) রবীন্দ্রনাথ ঠাকুর ঘ) নীরেন্দ্রনাথ চক্রবর্তী

15. নীচের বাক্যটি থেকে বিশেষ্য পদ খুঁজে নিয়ে লেখো।

কৌশিক কৃষাণুর খুব ভালো বন্ধু

- ক) বন্ধু খ) খুব গ) ভালো ঘ) কোনোটিই না

16. নদীর সমার্থক শব্দ হল -

- ক) নীর খ) অম্বু গ) তঁটীনী ঘ) বারি

17. বহুবচন লেখ : ছাত্র

- ক) ছাত্ররা খ) ছাত্র গ) ছাত্রবৃন্দ ঘ) ছাত্রসকল

18. বিপরীত শব্দ লেখ : ব্যর্থতা

- ক) ব্যর্থ খ) সার্থকতা গ) সার্থক ঘ) সফল

19. রেললাইনের লাইনদুটি যে জ্যামিতিক আকারে থাকে তা হল -

- ক) বক্ররেখা খ) সরলরেখা গ) সমান্তরাল সরলরেখা ঘ) উল্লম্বরেখা

20. ৬৫৭২১ সংখ্যাটিতে ৭ এর স্থানীয় মান -

- ক) ৭০ খ) ৭০০ গ) ৭০০০ ঘ) ৭০০০০

21. ৯ ও ১৫ এর গ.সা.গু -

- ক) ৬ খ) ৯ গ) ১২ ঘ) ৩

22. ২, ৫, ৭, ০, ৪ দ্বারা গঠিত বৃহত্তম সংখ্যাটি হল -

- ক) ৫৭০৪২ খ) ৭৫৪২০ গ) ৫৪৭০২ ঘ) ৭৪৫০২

23. ৪৮ ও ৬০ এর ল.সা.গু -

- ক) ২৪০ খ) ২৮০ গ) ২৬০ ঘ) ২৩০

24. $১৯৯ \times ৩৯ =$ কত?

- ক) ৭৭৬১ খ) ৭৭৫১ গ) ৭৭৩১ ঘ) ৭৬২১

25. একটি বাঁশের $\frac{২}{১৩}$ অংশ লাল, $\frac{১}{৩}$ অংশ সবুজ ও $\frac{৮}{৩৯}$ অংশ হলুদ রঙ করা হল। কত অংশ

রঙ করা বাকী আছে?

ক) $\frac{২৭}{৩৯}$ খ) $\frac{২৫}{৩৯}$ গ) $\frac{২৮}{৩৯}$ ঘ) $\frac{২৯}{৩৯}$

26. ১০ ও ১৫ এর দুটি সাধারণ গুণিতক হল -

ক) ৫০, ৯০ খ) ৬০, ৮০ গ) ৬০, ১২০ ঘ) ৩০, ৭৫

27. ১১ ও ১৭ এর সাধারণ গুণনীয়ক কয়টি?

ক) ১টি খ) ২টি গ) ৩টি ঘ) ৪টি

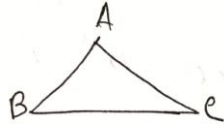
28. বৃত্তের দীর্ঘতম জ্যাকে _____ বলে।

ক) পরিধি খ) বৃত্তচাপ গ) ব্যাসার্ধ ঘ) ব্যাস

29. $\frac{৪৫}{১০০}$ এর লঘিষ্ঠ আকার হল -

ক) $\frac{৪}{১২}$ খ) $\frac{৫}{১৩}$ গ) $\frac{৫}{১২}$ ঘ) $\frac{৪}{১৩}$

30. নীচের ত্রিভুজটি কিরূপ?



ক) সমকোণী ত্রিভুজ খ) সূকোণী ত্রিভুজ গ) স্থূলকোণী ত্রিভুজ ঘ) কোনটিই নয়

31. একটি বালতিতে ১৫.৩০০ লিটার জল ধরে। তা থেকে একটি মগে ভর্তি করে ২ বার জল তুলে নিলাম। মগের আয়তন ২.৪০০ লিটার, বালতিতে এখন কত জল থাকবে?

ক) ৯.৫০০ লিটার খ) ৮.৩০০ লিটার গ) ১০.৩০০ লিটার ঘ) ১০.৫০০ লিটার

32. ভাজক = ১৪, ভাগশেষ = ১২ ও ভাগশেষ = ৫ হলে ভাজ্য কত?

ক) ১৫৩ খ) ১৬৩ গ) ১৭৩ ঘ) ১৮৩

33. মহিমার কাছে ২৬.০০ টাকা ছিল। সে ২.৫০ টাকা করে মোট দুইটি কলম কিনল। এখন তার কাছে কত টাকা পড়ে রইল?

ক) ২২ টাকা খ) ২১.০০ টাকা গ) ২১.৫০ টাকা ঘ) ২২.৫০ টাকা

34. নীচের কোনগুলি অপকৃত ভগ্নাংশ? a) $\frac{৬}{৩}$ b) $\frac{৩}{২৪}$ c) $\frac{২১}{৫}$ d) $\frac{৪৮}{৭}$ e) $\frac{৭}{১২}$ f) $\frac{৩৫}{৫৯}$

ক) (a, b) খ) (a, c) গ) (c, d) ঘ) (d, e)

35. ত্বক ফর্সা না কালো নির্ভর করে কিসের উপর?

ক) ক্রিয়েটিনিন খ) মেলোনিন গ) ক্লোরোফিল ঘ) রক্ত

36. মেরুদণ্ডের হাড়কে কি বলে?

ক) ভটিরা খ) ভাটিরা গ) ভাটিরা ঘ) ভাটিব

37. যক্ষ্মা রোগের জীবাণুরোধে কোন্ টিকা দেওয়া হয়?

ক) DTAP খ) BCG গ) IPV ঘ) MMR

38. শব্দ দূষণের ফলে সৃষ্ট একটি অসুস্থতার নাম -

ক) হাঁপানি খ) নিম্নরক্তচাপ গ) উচ্চরক্তচাপ ঘ) যক্ষ্মা

39. চন্দ্রগ্রহণ হওয়ার কারণ হল -

ক) চাঁদের উপর সূর্যের ছায়া পড়লে খ) চাঁদের উপর ধুমকেতুর ছাড়া পড়লে

গ) চাঁদের উপর বৃহস্পতির ছাড়া পড়লে ঘ) চাঁদের উপর পৃথিবীর ছাড়া পড়লে

40. কোন্ নদীর কাছে খুঁড়ে প্রাচীন ঘরবাড়ি পাওয়া গেছে?

ক) কেলেশাই খ) কংসাবতী গ) বিদ্যাধরী ঘ) হুগলী

41. দার্জিলিং জেলার কোন্ স্থানে মহানন্দা নদীর জন্ম?

ক) লামগাঁও খ) তাকদা গ) রেলিং ঘ) ডাওহিল

42. কৃষ্ণমুক্তিকা কোন্ চাষের জন্য উপযোগী? ক) চা খ) তুলা গ) ধান ঘ) গম

43. পশ্চিমবঙ্গের একটি লোকনৃত্য হল - ক) বিহু খ) ধিমসা গ) বুমুর ঘ) ছৌ

44. মুখ্যজোয়ারের মূল কারণ হল -

ক) পৃথিবীর ঘূর্ণন খ) চাঁদের আকর্ষণ গ) সূর্যের আকর্ষণ ঘ) নক্ষত্রের আকর্ষণ

45. চন্দ্রযান - ৩ - এর ল্যান্ডার এর নাম কি?

ক) বিক্রম খ) প্রজ্ঞান গ) আদিত্য ঘ) অগ্নি

46. পৃথিবীর সবচেয়ে ছোট মহাদেশ কোনটি?

ক) এশিয়া খ) আফ্রিকা গ) ওশিয়ানিয়া ঘ) ইউরোপ

47. বিশ্বপরিবেশ দিবস পালিত হয়? ক) ৫ ই জুলাই খ) ৫ ই আগস্ট গ) ৫ ই মে ঘ) ৫ ই জুন

48. ভারতবর্ষের বর্তমান রাষ্ট্রপতি কে?

ক) নরেন্দ্র মোদী খ) মমতা বন্দ্যোপাধ্যায় গ) দ্রোপদী মুর্মু ঘ) অরবিন্দ কেজরিওয়াল

49. সৌরমন্ডলের কোন্ গ্রহের সবচেয়ে বেশী সংখ্যক উপগ্রহ -

ক) বৃহস্পতি খ) শুক্র গ) মঙ্গল ঘ) পৃথিবী

50. পৃথিবীর কোন্ দেশে কোন নদী নেই?

ক) পাকিস্তান খ) জার্মান গ) ভ্যাটিকান সিটি ঘ) তাইওয়ান

51. ফাঁকা ঘরে কোন্ সংখ্যাটি বসবে?

6	9	15
8	12	20
4	6	?

i) 10 ii) 12 iii) 14 iv) 16

52. যদি BANK = FERO হয় তবে CLEARK = ?

i) GPIVO ii) PIGVO iii) VOGIP iv) PGIVO

53. কোন্টি অমিল?



i)



ii)



iii)


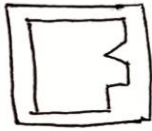


iv)

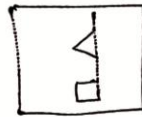
54. 1, 3, 6, 10, ?

i) 12 ii) 13 iii) 14 iv) 15

55. কোন্টি যোগ করলে বর্গক্ষেত্রটি সম্পূর্ণ হবে?




i)



ii)



iii)



iv)

12	144
----	-----

15	?
----	---

i) 115 ii) 150 iii) 200 iv) 225

57. ফাঁকা স্থান পূরণ কর :

b c d ____ - b ____ d a b c ____ a ____ c d a

i) a, c, d, b ii) b, a, c, d iii) c, b, d, a iv) d, a, c, b

58. শূন্যস্থানে উপযুক্ত শব্দ দিয়ে পূরণ কর :

MILK : CURD :: WATER : _____?

i) VAPOUR ii) ICE iii) RAIN iv) DROPLET

59. $21 + 18 \div 3 = ?$

i) 27 ii) 26 iii) 21 iv) 19

60. Cup is to coffee as bowl is to _____

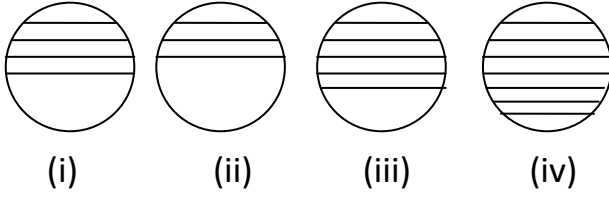
i) dish ii) soup iii) spoon iv) food

61. কোন্ সংখ্যাটি আলাদা?

15	10	12	21
----	----	----	----

i) 10 ii) 12 iii) 15 iv) 21

62. কোন চিত্রটি আলাদা?



63. যদি $23:6 :: 43 : \underline{\hspace{2cm}}$ i) 10 ii) 9 iii) 10 iv) 12


64. A হল B এর বোন, C হল B এর মা, D হল C এর বাবা, E হল D এর মা, তাহলে A এর সঙ্গে D এর সম্পর্ক কি?

i) দাদু ii) ঠাকুরমা iii) কন্যা iv) নাতনি

65. নীচের কোন্ Letter bunch টি অন্যগুলির থেকে ভিন্ন?

i) CABED ii) IJHGK iii) SRQPT iv) TVWYZ

66. চারটি বাহ্যুজ্জ্যামিতিক চিত্রের সংখ্যা কটি আছে?



i) 4 ii) 3 iii) 2 iv) 5

67. 20XX সালের মার্চ মাসের প্রথম সোমবার মনামী অঙ্ক পরীক্ষার প্রস্তুতি নিতে শুরু করল। যদি সে ১৫ দিন ধরে প্রস্তুতি নেয় এবং সব রবিবার ও ছুটির দিনে বাদ দেয় তাহলে তার প্রস্তুতি কবে শেষ হবে?

i) শুক্রবার

ii) বৃহস্পতিবার

iii) বুধবার

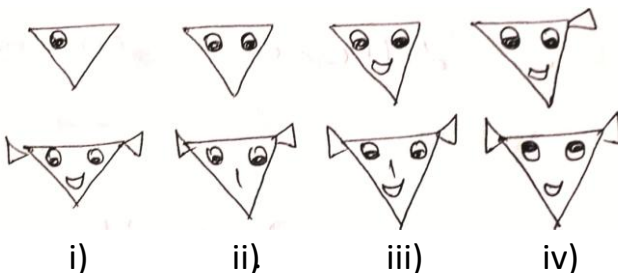
iv) সোমবার

March 20XX						
S	M	T	W	Th	F	S
1	2	3	4	5	6	7
8	9	10	11	12	13	14
15	16	17	18	19	20	21
22	23	24	25	26	27	28
29	30	31				

68. গত কালের আগের দিন শুক্রবার হলে আগামীকাল হবে -

i) শনিবার ii) রবিবার iii) মঙ্গলবার iv) সোমবার

69. নীচের ছবিগুলি অনুযায়ী পরবর্তী ছবি কোনটি হবে?

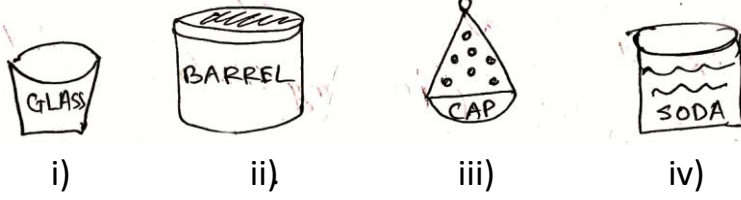


70. নীচের শব্দটির একদম মাঝের বর্ণ কোন্টি?


SIGNATURE

i) R ii) T iii) A iv) E

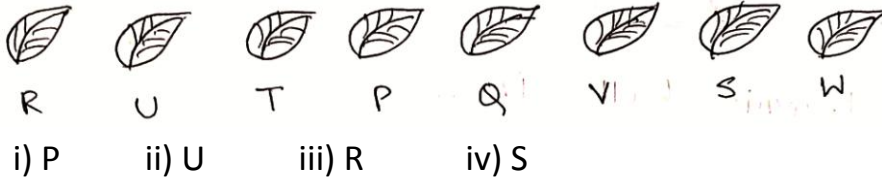
71. অমিলটি বের কর :



72. নীচের সারিটি পূরণ করতে হলে কোন্ নম্বরটি বসবে?



73. ডানদিক থেকে তৃতীয় পাতার বামদিকের চতুর্থতম পাতা কোন্টি?



74. অমিলটি খুঁজে বের কর :


i) CARROT ii) RADDISH iii) ONION iv) WATER MELON

75. ● : ⊙ :: ■ : ?

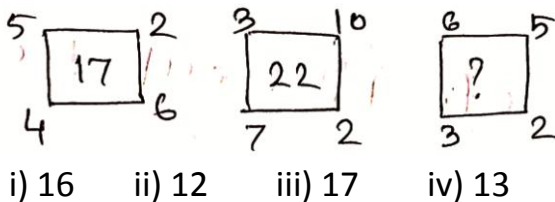


76. পাশের চিত্রে কোন্ আকারটি নেই?

i) ত্রিভুজ ii) বৃত্ত
iii) বর্গক্ষেত্র
iv) আয়তক্ষেত্র

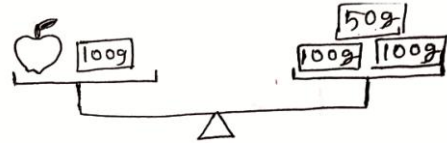


77. একই নিয়ম মেনে ফাঁকা জায়গায় সঠিক সংখ্যাটি বসাতো।



78. নিচের ছবিতে আপেলের ওজন কত?

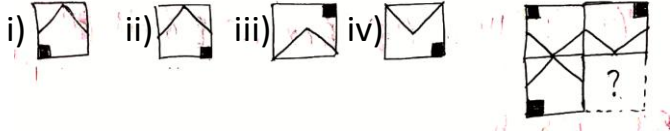
- i) 200 গ্রাম ii) 150 গ্রাম iii) 250 গ্রাম
iv) 300 গ্রাম



79. নিচের ফাঁকা জায়গায় সঠিক চিহ্ন বসানো : $326 + 1 + 0$ $0 + 326 + 1$

- i) > ii) < iii) = iv) কোনোটিই নয়

80. নিচের কোন চিত্রটি পাশের চিত্রটি পূর্ণ করবে?



81. মানের উর্ধ্বক্রমানুসারে সাজানো : 756, 567, 657, 676

- i) 657, 567, 756, 676 ii) 567, 657, 676, 756
iii) 756, 676, 657, 567 iv) 676, 756, 567, 657

82. যদি, $\blacksquare + \blacksquare + \blacksquare = 18$ হয় তবে, $\blacksquare + \blacksquare + \blacksquare + \blacksquare + \blacksquare = ?$

- i) 18 ii) 24 iii) 30 iv) 48

83. কোনটি ৩১ দিনে শেষ হয়?

- i) নভেম্বর ii) ফেব্রুয়ারি iii) সেপ্টেম্বর iv) আগস্ট

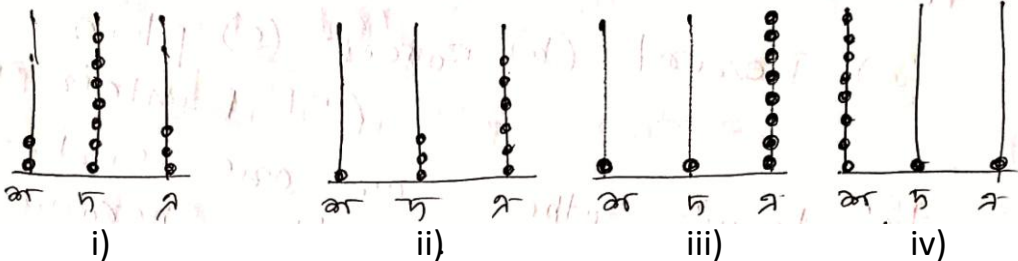
84. টেনিস বল একটি _____ এর উদাহরণ।

- i) শঙ্খ ii) গোলক iii) ঘনক iv) কোনটিই নয়।

85. ডাক্তারবাবু তোমাকে কাশির জন্য সিরাপ খেতে বলেছেন। তুমি কোন্ এককে মাপবে?

- i) কিলোগ্রাম ii) লিটার iii) মিটার iv) মিলিগ্রাম

86. একটি কেকের দাম (150-32) টাকা। নিচের কোন অ্যাবাকাসটি কেকের দাম বোঝাচ্ছে?



87. $(y - x)$ এর মান কত?

- i) 3 ii) 2 iii) 4 iv) 0

$$\begin{array}{r} 9 \quad \boxed{x} \quad 3 \\ - 3 \quad 6 \quad \boxed{y} \\ \hline 5 \quad 4 \quad 1 \end{array}$$

88. জনসংযোগের জন্য কোনটি ব্যবহৃত হয় ?

- i) চিঠি ii) ফ্যাক্স iii) ই-মেল iv) সবকটি

89. 'এখানে পার্কিং করা যাবে না' নীচের কোনটি বোঝায়?



i)



ii)



iii)



iv)

90. নীচের কোন শব্দটি জাহাজে ভ্রমণযাত্রা বোঝায়?

i) ফেরি ii) ভয়াজ iii) কার্গো iv) শিপমেন্ট

91. যোগা-য় 'প্রাণায়াম' শব্দে অর্থ -

i) শ্বাস নিয়ন্ত্রণ ii) শিথিল ব্যায়াম করা iii) ধ্যান iv) নিরামিষ খাদ্যাভ্যাস

92. পরিবেশদূষণ রোধ করতে নীচের কোনটি বর্জন করতে হবে?

i) কাপড়ের ব্যাগ ii) প্লাস্টিক ব্যাগ iii) পুনর্ব্যবহারযোগ্য জলের বোতল iv) গৃহনির্মিত সার

93. ভূমি ধ্বংস প্রায়শই হয় -

i) মরুভূমিতে ii) অরণ্যে iii) সমতলভূমিতে iv) পার্বত্য এলাকায়

94. কোন দেশটি একটি মহাদেশে হিসেবেও গণ্য হয়?

i) অস্ট্রেলিয়া ii) দক্ষিণ আফ্রিকা iii) এশিয়া iv) আমেরিকা

95. অঞ্জুর বাবার এক বোন। তার নাম বিনীতা শর্মা। বিনীতা শর্মা অঞ্জুর কি হোন?

i) মা ii) ঠাকুরমা iii) ভাগ্নে iv) পিসি

96. নীচের কোনটি উদ্ভিজ্য খাদ্য নয়?

i) গুড় ii) চিনি iii) চাল iv) চীজ

97. প্রাপ্তবয়স্ক মানুষের দাঁতের সংখ্যা কত? i) ২০ ii) ২৮ iii) ৩২ iv) ৪৪

98. বাদামের রাজা কাকে বলা হয়?

i) চীনাবাদাম ii) আখরোট iii) কাজুবাদাম iv) নারকেল

99. রামধনুর মাঝের রঙ কোনটি?

i) বেগুনী ii) সবুজ iii) আকাশি iv) লাল

100. শিশুদের গল্পের বই 'পঞ্চতন্ত্র' কে লিখেছিলেন?

i) আর. কে. নারায়ণ ii) বিষ্ণু শর্মা iii) শ্বেতা বসাক iv) সুধা মুরতি।

SUBJECT ABILITY TEST (SAT)

Class – V

1x50=50

(English Version)

1. The children were playing happily with their toys. Choose the adverb from the above sentence.

- i) Children ii) Playing iii) Happily iv) their

2. “Stop ” shorted the teacher. Put the correct punctuation mark in the box.

- i) Comma (,) ii) Question mark (?) iii) Semi colon (;) iv) exclamatory mark (!)

3. _____ did he come to my home? Fill in the blank with correct ‘wh’ word from below.

- i) Where ii) When iii) Whom iv) What

4. Alex is going to be _____ engineer.

- i) a ii) an iii) the iv) none of those

5. She was wearing _____ splendid outfit

- i) a ii) an iii) the iv) none of those

6. The programme will start _____ 11 a.m.

- i) at ii) from iii) on iv) with

7. Fill in the blank with possessive pronoun. The garden is _____.

- i) them ii) their iii) theirs iv) our

8. Fill in the blanks with correct form of the verb.

He _____ the school just now.

- i) reach ii) reaches iii) has reached iv) reached

9. Kalis older brother taught _____ how to ride a bicycle.

Write the correct pronoun

- i) they ii) us iii) our iv) his

10. Choose which one is an abstract noun

- i) silence ii) class iii) wood iv) child

11. Identify the underlined adjective Whose jacket is this?

- i) possessive ii) Interrogative iii) Descriptive iv) distributive

12. Write the opposite gender of 'Duke'

- i) Duch ii) Duchess iii) Dukes iv) Drake

13. Radha is _____ an paper boat.

- i) makes ii) made iii) has made iv) making

১৪. 'প্রশ্ন' কবিতাটি কে লিখেছেন?

- ক) সুকুমার রায় খ) অন্নদাশঙ্কর রায় গ) রবীন্দ্রনাথ ঠাকুর ঘ) নীরেন্দ্রনাথ চক্রবর্তী

১৫. নীচের বাক্যটি থেকে বিশেষদ পদ খুঁজে নিয়ে লেখো।

কৌশিক কৃষ্ণাণুর খুব ভালো বন্ধু

- ক) বন্ধু খ) খুব গ) ভালো ঘ) কোনোটিই না

১৬. নদীর সমার্থক শব্দ হল -

- ক) নীর খ) অম্বু গ) তাঁটনী ঘ) বারি

১৭. বহুবচন লেখ : ছাত্র

- ক) ছাত্ররা খ) ছাত্র গ) ছাত্রবৃন্দ ঘ) ছাত্রসকল

১৮. বিপরীত শব্দ লেখ : ব্যর্থতা

- ক) ব্যর্থ খ) সার্থকতা গ) সার্থক ঘ) সফল

19. Two lines of the rail line having the geometrician shape of -

- a) Curve line b) Straight line c) Parallel d) perpendicular

20. 65721 the local value of the '7' is - a) 70 b) 700 c) 7000 d) 70000

21. The G. C. M of 9 and 15 is - a) 6 b) 9 c) 12 d) 3

22. The largest digit, obtained from the numbers 2, 5, 7, 0, 4 -

- a) 57042é b) 75420 c) 54702 d) 74502

23. The L.C.M of 48 and 60 is - a) 240 b) 280 c) 260 d) 230

24. $199 \times 39 = ?$ a) 7761 b) 7751 c) 7731 d) 7621

25. For a bamboo, $\frac{2}{13}$ red, $\frac{1}{13}$ green and $\frac{8}{34}$ yellow calculate the part which is to be coloured?

- a) $\frac{27}{39}$ b) $\frac{25}{39}$ c) $\frac{28}{39}$ d) $\frac{29}{39}$

26. Two common multiplicative of the members 10 and 15 is -

- a) 50, 90 b) 60, 80 c) 60, 120 d) 30, 75

27. The common factor of the following numbers 11 and 17

- a) 1 b) 2 c) 3 d) 4

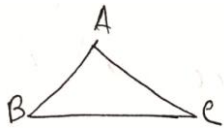
28. The largest chord of a circle _____

- a) Circumference b) Area c) Radius d) Diameter

29. Smallest form of the fraction $45/100$ is -

- a) $4/12$ b) $5/13$ c) $5/12$ d) $4/13$

30. What type of triangle is -



- a) Right angled b) Acute c) Obtused d) None of the above

31. A bucket having the capacity of 15.300 litre of water. With a mug having the volume of 2.400 litre, Used two times to take water from the bucket calculate the amount of water in the bucket -

- a) 9.500 lit. b) 8.300 lit. c) 10.300 lit. d) 10.500 lit.

32. Divisor = 14; Remainder = 12; Quotient = 5 then factor will be -

- a) 153 b) 163 c) 173 d) 183

33. Mahima has Rs. 26.00. She bought two pens of Rs. 2.50 each. Calculate the rest amount with her.

- a) Rs. 22 b) Rs. 21.00 c) Rs. 21.50 d) Rs. 22.50

34. Which is improper fraction?

$6 \frac{5}{3}$; $\frac{3}{24}$; $\frac{21}{5}$; $\frac{48}{7}$; $1 \frac{7}{12}$; $\frac{35}{59}$

35. The colour of the Skin depends on -

- a) Geatinine b) Melanin c) Chlorophyll d) Blood

36. Bone of back-bone is called -

- a) Vertebrae b) Vertebra c) Vertebrae d) Vertive

37. Vaccine used for the disease tuberculosis (TB)

- a) DTAP b) BCG c) IPV d) MMR

38. The disease caused for the Sound pollution -

- a) Asthma b) Low blood pressure c) High blood pressure d) TB

39. The cause of moon eclipse is -

- a) The shadow of the sun falls on the moon
 b) The shadow of the comet falls on the moon
 c) The shadow of the Jupiter falls on the moon
 d) The shadow of the earth falls on the moon.
40. The old houses were invented near to the which river?
 a) Keleghas b) kangsabati c) Bidyadhari d) Hooghly
41. In which place of Darjeeling district, the river mahananda started its journey?
 a) Lamgau b) Tokdan c) Reiling d) daohill
42. For which cultivation, the black soil is usefull?
 a) Tea b) Cotton c) Paddy d) Wheat
43. The folk dance of west Bengal is - a) Bihu b) Dhimsa c) Jhumur d) Chhau
44. The main cause of primary Tide is -
 a) Spin of the earth b) Attraction of the moon
 c) Attraction of the sun d) Attraction of the constellation
45. The name of the Lander Chandrayan – 3 is -
 a) Vikram b) Pragyan c) Aditya d) Agni
46. The smallest continent of the earth is -
 a) Asia b) Africa c) Oceania d) Europe
47. The world Environment day is –
 a) 5th July b) 5th August c) 5th May d) 5th June
48. Who is the current president of India?
 a) Narendra Modi b) Mamata Banerjee c) Droupadi Murmu
 d) Arbind Kejriwal
49. Which planet has maximum number of satellite?
 a) Jupiter b) Venus c) Mars d) Earth
50. Which Country has not any river?
 a) Pakistan b) Germany c) Vatican city d) Taiwan

51. Fill in the blank with numeric

6	9	15
8	12	20
4	6	?

- i) 10 ii) 12 iii) 14 iv) 16

52. If BANK = FERO then CLEARK = ?

- i) GPIVO ii) PIGVO iii) VOGIP iv) PGIVO

53. Find the mismatch -



i)



ii)



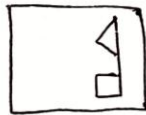

iii)



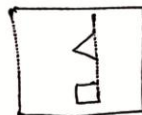
iv)

54. 1, 3, 6, 10, ? i) 12 ii) 13 iii) 14 iv) 15

55. Which of these, is required to get a complete square? (By addition)




i)



ii)



iii)



iv)

56.

12	144
----	-----

15	?
----	---

 i) 115 ii) 150 iii) 200 iv) 225

57. Fill in the blanks -

b c d ____ - b ____ d a b c ____ a ____ c d a

- i) a, c, d, b ii) b, a, c, d iii) c, b, d, a iv) d, a, c, b

58. Fill in the blanks -

MILK : CURD :: WATER : _____ ?

- i) VAPOUR ii) ICE iii) RAIN iv) DROPLET

59. $21 + 18 \div 3 = ?$

- i) 27 ii) 26 iii) 21 iv) 19

60. Cup is to coffee as bowl is to _____

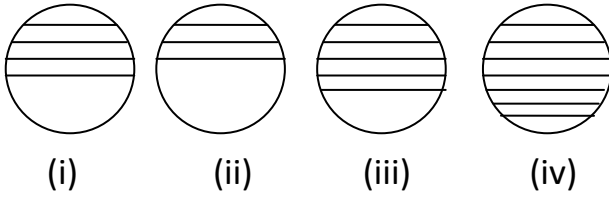
- i) dish ii) soup iii) spoon iv) food

61. Which is different?

15	10	12	21
----	----	----	----

- i) 10 ii) 12 iii) 15 iv) 21

62. Which figure is different?



63. If $23:6 :: 43 : \underline{\hspace{2cm}}$ i) 10 ii) 9 iii) 10 iv) 12


64. A is Sister of B. C is mother of B, D is father of C. E is mother of D. Find out the relation between A and D

- i) Grandfather ii) Grandmother iii) Daughter iv) Grandson

65. Find out the different Letter bunch?

- i) CABED ii) IJHGK iii) SRQPT iv) TVWYZ

66. চারটি বাহ্যুঙ্ক জ্যামিতিক চিত্রের সংখ্যা কটি আছে?



- i) 4 ii) 3 iii) 2 iv) 5

67. 20XX সালের মার্চ মাসের প্রথম সোমবার মনামী অঙ্ক পরীক্ষার প্রস্তুতি নিতে শুরু করল। যদি সে ১৫ দিন ধরে প্রস্তুতি নেয় এবং সব রবিবার ও ছুটির দিনে বাদ দেয় তাহলে তার প্রস্তুতি কবে শেষ হবে?

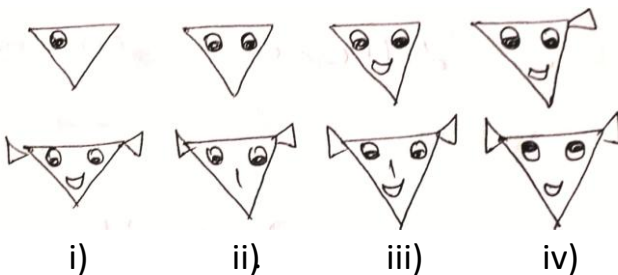
- i) শুক্রবার
ii) বৃহস্পতিবার
iii) বুধবার
iv) সোমবার

March 20XX						
S	M	T	W	Th	F	S
1	2	3	4	5	6	7
8	9	10	11	12	13	14
15	16	17	18	19	20	21
22	23	24	25	26	27	28
29	30	31				

68. If the day before yesterday is Friday then tomorrow will be –

- i) Saturday ii) Sunday iii) Tuesday iv) Monday

69. According to the figures which will be the next figure?



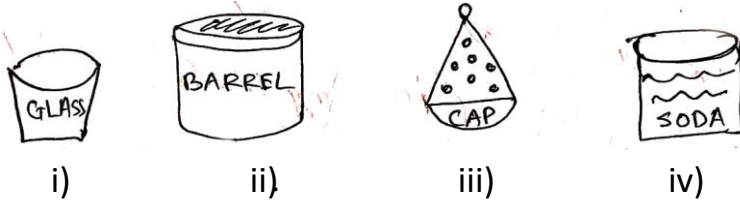
- i) ii) iii) iv)

70. Find out the middle Letter -


SIGNATURE

- i) R ii) T iii) A iv) E

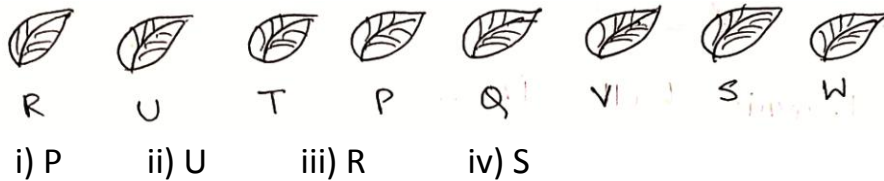
71. Find out the different one -



72. Which number will be prominent to complete the series bellow?



73. ডানদিক থেকে তৃতীয় পাতার বামদিকের চতুর্থতম পাতা কোন্টি?



74. Find out the different one -

- i) CARROT ii) RADDISH iii) ONION iv) WATER MELON

75. ● : ⊙ :: ■ : ?

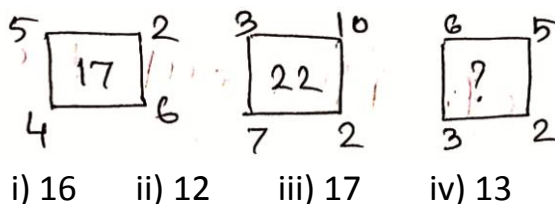


76. Which shape is absent in the figure?

- i) Triangle ii) Circle
iii) Square
iv) Rectangle



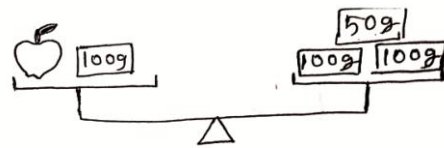
77. Put the correct number maintaining the same order



- i) 16 ii) 12 iii) 17 iv) 13

78. What is the weight of the apple

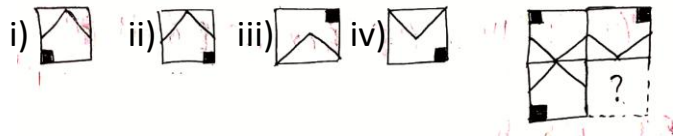
- i) 200 gm ii) 150 gm iii) 250 gm
iv) 300 gm



79. Put the correct symbol $326 + 1 + 0$ $0 + 326 + 1$

- i) > ii) < iii) = iv) not anyone

80. Which one fills the figure given bellow?



81. Arrange the numbers in ascending order. 756, 567, 657, 676

- i) 657, 567, 756, 676 ii) 567, 657, 676, 756
iii) 756, 676, 657, 567 iv) 676, 756, 567, 657

82. If    = 18 Then      = ?

- i) 18 ii) 24 iii) 30 iv) 48

83. Which is completed with 31 days?

- i) November ii) February iii) September iv) August

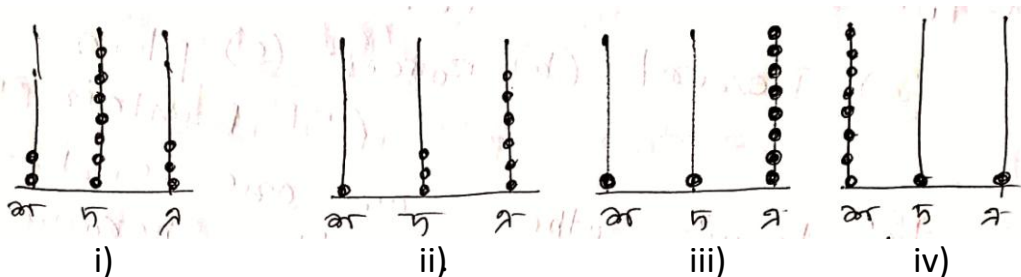
84. Tennis ball is _____

- i) Cone ii) Spherical iii) Cubial iv) Not any one

85. Doctor has directed to take Syrup. Which unit will be used to measure that

- i) Kg ii) Lit. iii) Meter iv) Mili \u03bc ter

86. The value of a Cake is (150-32) Which abacus is prominent for showing that value?



87. Find out the value of (y - x)?

- i) 3 ii) 2 iii) 4 iv) 0

$$\begin{array}{r} 9 \quad \boxed{x} \quad 3 \\ - 3 \quad 6 \quad \boxed{y} \\ \hline 5 \quad 4 \quad 1 \end{array}$$

88. Which one is used for public relation?

i) Letter ii) Fax iii) E-mail iv) All of them

89. Which Figure is indicating the no-parking zone?



i)



ii)



iii)



iv)

90. নীচের কোন্ শব্দটি জাহাজে ভ্রমণযাত্রা বোঝায়?

i) ফেরি ii) ভয়াজ iii) কাগোর্গা iv) শিপমেন্ট

91. যোগা-য় 'প্রাণায়াম' শব্দে অর্থ -

i) শ্বাস নিয়ন্ত্রণ ii) শিথিল ব্যায়াম করা iii) ধ্যান iv) নিরামিষ খাদ্যাভ্যাস

92. To resist the environmental pollution which one is to be eliminated?

i) Cotton Bag ii) Plastic Bag iii) Recyclable water bottle
iv) Homemade fertilizer

93. Land-Slide can be seen in

i) Desert ii) Forest iii) Plain iv) Mountain area

94. Which country is treated as a continent?

i) Australia ii) South Afric iii) Asia iv) America

95. Anju's father has one Sister. Her name is Binita Sharma. Find out the relation between Anju and Binita -

i) Mother ii) Grandmother iii) Nephew iv) Aunty

96. Which one is not the source of plant?

i) Jaggery ii) Sugar iii) Rice iv) Cheese

97. How many teeth does an adult human have

i) 20 ii) 28 iii) 32 iv) 44

98. Which is the king of nut?

i) Peanuts ii) Walnuts iii) Cashew iv) Coconut

99. Which is the middle colour of rainbow?

i) Violet ii) green iii) Sky blue iv) Red

100. Who is the writer of "Panchatantra" book?

i) R.K. Narayan ii) Bishnu Sharma iii) S. Basak iv) S. Murti

ROUGH WORK