

# SATCHASI CHHATRA MANGAL MERIT SEARCH TEST (SCMMST) 2025



**Reg. No.: S0010324/1970-71**

<b>Name of the Student:</b> .....  <b>Roll No:</b> ..... <b>Zone:</b> .....  <b>Name of the Centre:</b> .....  <b>Address:</b> .....  ..... <b>Pin Code</b> .....	<p style="text-align: center;"><b>Class : V</b></p> <p style="text-align: center;">Full Marks : 100 Time : 12 Noon – 2PM Date of Examination: 31<sup>th</sup> August, 2025</p> <p>Signature Invigilator: .....</p> <p>Signature of Center-In-Charge .....</p>
---	---

<b>FOR STUDENTS</b>	<b>FOR EXAMINER</b>												
<p style="text-align: center;"><b>INSTRUCTIONS</b></p> <ul style="list-style-type: none"> <li>YOU WILL ANSWER IN QUESTION PAPER.</li> <li>YOU MUST ANSWER ALL QUESTIONS.</li> <li>DO NOT LOOK OTHER &amp; OUTSIDE.</li> <li>ONLY CORRECT ONE WILL BE MARKED.</li> <li>YOU MAY MARK TICK (✓) OR ROUND WITH YOUR PEN.</li> <li>DO NOT USE WOOD PENCIL.</li> <li>IF YOU WILL MARK TWO / THREE / FOUR, THEN THAT WILL BE CANCELLED.</li> <li>YOU DO NOT DO YOUR ROUGH WORK IN THE QUESTION PAPER.</li> <li>FIRST YOU THINK AND THEN YOU DO.</li> <li>YOUR ACHEIVMENT ONLY FOR YOU.</li> <li>IT HAS NO RELATION WITH YOUR REGULAR CLASS RESULT</li> <li>ALL QUESTIONS CARRY EQUAL MARK (I.E. 1)</li> <li>BEFORE THE FINAL STARTING BELL YOU WRITE YOUR NAME, ROLL NUMBER, ZONE AND ADDRESS.</li> <li>100 QUESTIONS MUST BE ANSWERED WITHIN 2 HOURS.</li> <li>NO EXTRA TIME WILL BE GIVEN FOR YOU FOR ANY CIRCUMSTANCE.</li> <li><b>ONLY YOU CAN DEVELOP YOURSELF.</b></li> </ul>	<table border="1" style="width: 100%; border-collapse: collapse; margin-bottom: 10px;"> <caption style="text-align: center; font-weight: normal;">TABLE FOR OBTAINED MARKS</caption> <tr> <th style="width: 33%;">TYPE QUESTION</th> <th style="width: 33%;">TOTAL MARKS</th> <th style="width: 33%;">OBTAINED MARKS</th> </tr> <tr> <td style="text-align: center;"><b>S A T</b></td> <td style="text-align: center;"><b>50 (FIFTY)</b></td> <td></td> </tr> <tr> <td style="text-align: center;"><b>M A T</b></td> <td style="text-align: center;"><b>50 (FIFTY)</b></td> <td></td> </tr> <tr> <td style="text-align: center;"><b>TOTAL</b></td> <td style="text-align: center;"><b>100</b></td> <td></td> </tr> </table> <p>Signature of Examiner : .....</p> <p>Signature of Exam. Coordinator : <i>S. Mandal</i> .....</p> <p>Date : .....</p>	TYPE QUESTION	TOTAL MARKS	OBTAINED MARKS	<b>S A T</b>	<b>50 (FIFTY)</b>		<b>M A T</b>	<b>50 (FIFTY)</b>		<b>TOTAL</b>	<b>100</b>	
TYPE QUESTION	TOTAL MARKS	OBTAINED MARKS											
<b>S A T</b>	<b>50 (FIFTY)</b>												
<b>M A T</b>	<b>50 (FIFTY)</b>												
<b>TOTAL</b>	<b>100</b>												

## **ROUGH WORK**

SATCHASI CHHATRA MANGAL MERIT SEARCH TEST 2025  
(SCMMST 2025)

SUBJECT ABILITY TEST (SAT)-2025

Class – V

1 x 50 = 50

(Bengali Version)

---

1. The synonym of gently is \_\_\_\_\_.

- a) harshly      b) softly      c) rudely      d) cleverly

2. The short form of we will is \_\_\_\_\_.

- a) w'ell      b) wel'l      c) we'll      d) well'

3. Rahul came \_\_\_\_\_ my house this morning.

- a) to      b) of      c) for      d) into

4. The opposite of the word curly is \_\_\_\_\_.

- a) long      b) plain      c) curved      d) straight

5. The past form of cut \_\_\_\_\_.

- a) cuted      b) cutted      c) cut      d) cuting

6. What a nice dress it is \_\_\_\_.

Choose the correct punctuation mark to complete sentence.

- a) !      b) .      c) ;      d) ?

7. The passengers \_\_\_\_ angry because the driver was \_\_\_\_ the bus carelessly.

- a) look, drives      b) looking, drives      c) looks, drive      d) looked, driving

8. In which of the following words, sound of 'K' is silent?

- a) Kangaroo      b) Kitten      c) Knew      d) King

9. You meet a friend after a long time. You will say to him / her first:

- a) Hello! Where have you been?      b) Hi! Who are you?  
c) You look rather busy.      d) What's your name?

10. The correct structured sentence is:

- a) I bought have a sheep from a village. b) I bought from a sheep have a village.  
c) I have bought a sheep from a village. d) A sheep from a village I have bought.

11. When did you complete your work?

The answer for the above question is:

- a) I work in an office. b) I go to office at 10:00 am.  
c) I work five days a week. d) I completed my work at 2:00 pm.

12. The sentence with correct capitalisation is:

- a) Ram will go to kolkata on Monday. b) Ram will go to Kolkata on Monday.  
c) Ram will go to Kolkata on monday. d) Ram will go to kolkata on monday.

13. আদল মানে \_\_\_\_\_.

- ক) সাদৃশ্য খ) স্বীকার গ) মজুরী ঘ) সরলতা

14. হিমালয় ছাড়া ভারতের অন্য পর্বতটি হল \_\_\_\_\_.

- ক) কিলিমাঞ্জারো খ) আন্দেস গ) রকি ঘ) আরাবল্লী

15. ২৫ জন ছাত্র এক লাইনে দাঁড়িয়ে আছে। যদি তরুণ মাঝখানে থাকে, তাহলে বাম দিক থেকে এবং ডান দিক থেকে তার অবস্থান কী?

- ক) ১২ তম খ) ১৩ তম গ) ১৪ তম ঘ) ১৫ তম

16. নিচের কোনটি অন্যদের থেকে আলাদা?

- a) 10000 ones b) 10 hundreds c) 100 tens d) 1 thousand

17. রোহন ৫০ লিটার তেল কিনেছিল। সে ৪৪ লিটার ৩০০ মিলি ব্যবহার করেছিল। আর কত তেল বাকি আছে?

- ক) ৭ লিটার ৭০০ মিলি খ) ৬ লিটার ৭০০ মিলি  
গ) ৫ লিটার ৩০০ মিলি ঘ) ৫ লিটার ৭০০ মিলি

18.  $\frac{95}{165}$  ভগ্নাংশের ক্ষুদ্রতম রূপ হল \_\_\_\_\_।

ক)  $\frac{3}{11}$       খ)  $\frac{5}{11}$       গ)  $\frac{5}{12}$       ঘ)  $\frac{9}{13}$

19. একটি বাঁশের  $\frac{1}{4}$  অংশ লাল,  $\frac{2}{4}$  অংশ সবুজ এবং  $\frac{3}{4}$  অংশ হলুদ। বাঁশের যে অংশটি রঙিন নয় তা হল \_\_\_\_\_।

ক)  $\frac{1}{4}$       খ)  $\frac{2}{4}$       গ)  $\frac{3}{4}$       ঘ)  $\frac{8}{4}$

20. এই সিরিজটি দেখো: ৭, ১০, ৮, ১১, ৯, ১২, \_\_\_\_\_

এরপর কোন সংখ্যাটি আসা উচিত?

ক) ৭      খ) ১০      গ) ১২      ঘ) ১৩

21. \_\_\_\_\_  $\times 29 = 928$

শূন্যস্থানের সংখ্যাটি হল:

ক) ২৩      খ) ২৬      গ) ২৭      ঘ) ২৯

22. মলয় গণিতে ৬০ নম্বরের মধ্যে ৩৯ নম্বর পেয়েছে। নম্বরের শতকরা হার \_\_\_\_\_।

ক) ৫৬      খ) ৬০      গ) ৬৩      ঘ) ৬৫

23. একটি আয়তাকার মাঠ ৩৫ মিটার লম্বা এবং ২৫ মিটার চওড়া। মাঠের কিনারা একবার ঘুরে আসতে কত মিটার লাগে?

ক) ৬০      খ) ১২০      গ) ১২৫      ঘ) ১৩০

24. নিচের কোন সংখ্যাটি অন্য সংখ্যা থেকে আলাদা?

ক) ৮১      খ) ১২১      গ) ১৩৮      ঘ) ১৪৮

25. নিম্নলিখিত গাণিতিক রাশির উত্তর হল:

$$28 \div 8 \times (6 - 3) - 28 \div 8(6 - 3)$$

ক) ১৬      খ) ১৮      গ) ২০      ঘ) ২৪

26. রাম, শ্যাম এবং শঙ্করের বর্তমান বয়স ৭০ বছর। ৬ বছর আগে তাদের বয়সের সমষ্টি কত ছিল?

ক) ৫০ বছর      খ) ৫২ বছর      গ) ৫৪ বছর      ঘ) ৫৬ বছর

27. তামিলনাড়ুর রাজধানী হল \_\_\_\_\_।

ক) কলকাতা      খ) চেন্নাই      গ) বেঙ্গালুরু      ঘ) পশ্চিমবঙ্গ

28. আমি তোমার ঘরে চিঠি এবং পার্সেল পৌঁছে দেই। আমি একজন \_\_\_\_\_।

ক) পোস্টম্যান      খ) ডেলিভারি বয়      গ) ওয়েটার      ঘ) রাজমিস্ত্রি

29. রাথী বন্ধন শুরু হয়েছিল এই বছরে:

ক) ১৬০৫      খ) ১৭০৫      গ) ১৮০৫      ঘ) ১৯০৫

30. স্বামী বিবেকানন্দ সকল ধর্মের ঐক্যের কথা বলেছেন এখানে:

ক) আমেরিকা      খ) ভারত      গ) ফ্রান্স      ঘ) কোনটিই নয়

31. অজন্তা \_\_\_\_\_ এর জন্য বিখ্যাত।

ক) তৈলচিত্র      খ) কাঠের চিত্র      গ) গুহাচিত্র      ঘ) ক্যানভাস চিত্র

32. আসামের জনপ্রিয় লোকনৃত্য হল \_\_\_\_\_।

ক) ভাংড়া      খ) ডাভিয়া      গ) বিহু      ঘ) ঘুমার

33. তিনি তানসেনের গান শুনতে ভালোবাসতেন। তিনি হলেন \_\_\_\_\_।

ক) আকবর      খ) বাবর      গ) শাহজাহান      ঘ)

আওরঙ্গজেব

34. হাজারদুয়ারি প্রাসাদটি এখানে অবস্থিত:

ক) কোনার্ক      খ) মুর্শিদাবাদ      গ) বীরভূম      ঘ) মালদা

35. 'BLACKBERRY' শব্দের অক্ষর দিয়ে যে শব্দটি তৈরি করা যায় না

তা হল \_\_\_\_\_।

a) Bicker      b) Reback      c) Cabler      d) Barley

36. ভারতীয় ক্ষেপণাস্ত্র প্রযুক্তির জনক হলেন \_\_\_\_\_?

ক) ডঃ হোমি ভাবা      খ) ডঃ রাজগোপাল চিদাম্বরম

গ) ডঃ ইউ.আর. রাও      ঘ) ডঃ এ.পি.জে. আব্দুল কালাম

37. আলোকবর্ষ হল \_\_\_\_\_ এর একক।

ক) সময়                      খ) ওজন                      গ) দূরত্ব                      ঘ) আয়তন  
38. যুধিষ্ঠিরের প্রিয় অস্ত্র ছিল \_\_\_\_\_।

ক) কোদাল                      খ) কুঠার                      গ) বন্দুক                      ঘ) বর্শা  
39. ২০২৫ সালের বিশ্ব পরিবেশ দিবসের প্রতিপাদ্য কী?

a) Land Restoration                      b) Beat Plastic Pollution  
c) Only one Earth                      d) Ecosystem Restoration  
40. বিশ্ব পরিবেশ দিবস কখন শুরু হয়েছিল?

ক) ১৯৭৩                      খ) ১৯৭৭                      গ) ১৯৮১                      ঘ) ১৯৮৫  
41. ORS এর পূর্ণরূপ হল \_\_\_\_\_।

a) Oral Ready Solution                      b) Oral Rehydration Solid  
c) Oral Rehydration Substance                      d) Oral Rehydration Solution  
42. \_\_\_\_\_ এর জন্য স্টেথোস্কোপ ব্যবহার করা হয়।

ক) মনের অভ্যন্তরীণ শব্দ শোনা                      খ) মস্তিষ্কের অভ্যন্তরীণ শব্দ শোনা  
গ) শরীরের অভ্যন্তরীণ শব্দ শোনা                      ঘ) শরীরের বাহ্যিক শব্দ শোনা

43. সাপের কামড়ের ঔষধ তৈরি করা হয় \_\_\_\_\_ থেকে :

ক) সাপের বিষ                      খ) সাপের চামড়া  
গ) সাপের অভ্যন্তরীণ অঙ্গ                      ঘ) এগুলোর কোনটিই নয়

44. তাৎক্ষণিক শক্তি পাওয়ার জন্য অসুস্থ ব্যক্তিকে কী দেওয়া হয়?

ক) চকলেট                      খ) আইসক্রিম                      গ) আপেল                      ঘ) Glucose ড্রিপ

45. পাকস্থলীতে পাচক রসের প্রকৃতি কী?

ক) আম্লিক                      খ) ক্ষারীয়                      গ) প্রশম                      ঘ) লবণাক্ত

46. আমরা কীভাবে জানব যে খাবার নষ্ট হয়ে গেছে?

ক) রঙ থেকে                      খ) স্বাদ থেকে                      গ) গন্ধ থেকে                      ঘ) এই সব কটি থেকে

47. লবণ তৈরি করা হয়:

ক) পাতিত জল থেকে                      খ) সমুদ্রের জল থেকে

গ) নদীর জল থেকে

ঘ) পানীয় জল থেকে

48. জলের তরল অবস্থা থেকে বাষ্প রূপান্তরকে \_\_\_\_\_ বলা হয়।

ক) ঘনীভবন

খ) অবক্ষেপণ

গ) বাষ্পীভবন

ঘ) বৃষ্টিপাত

49. রক্তাল্পতা নিম্নলিখিত কারণগুলির ঘাটতির কারণে হয়:

ক) আয়রন

খ) তামা

গ) সোডিয়াম

ঘ) পটাসিয়াম

50. LPG এর পূর্ণরূপ কী?

a) Liquefied Power Gas

b) Light Petroleum Gas

c) Liberated Petroleum Gas

d) Liquefied Petroleum Gas

#### MENTAL ABILITY TEST (MAT)

1 x 50 = 50

51. পাঁচজন মেয়ে একটি দৌড়ে অংশ নিয়েছিল। বীণা, প্রিয়ার আগে শেষ করেছিল কিন্তু লতিকার পরে। গরিমা, লতিফার আগে শেষ করেছিল কিন্তু প্রিয়ার পরে। দৌড়ে কে জিতল?

ক) লতিফা

খ) লতিকা

গ) বীণা

ঘ) গরিমা

52. একটি নির্দিষ্ট কোডে 'INFORM' কে 'FNIMRO' হিসেবে লেখা হয়, তারপর 'DETECT' কে এভাবে কোড করা হবে:

a) DETTCE

b) TEDECT

c) TEDCET

d) TEDTCE

53. বিজোড়টি (odd one) বেছে নাও:

a) DFGH

b) KMNO

c) QRST

d) RTUV

54. যদি গতকাল বুধবার হয়, তাহলে রবিবার কবে হবে?

ক) আগামীকাল

খ) আগামীকালের দুই দিন পর

গ) আজ

ঘ) পরশু



55. M, R-এর চেয়ে বড়; Q, R এবং N এর চেয়ে ছোট। N, M-এর চেয়ে বড় নয়। সকলের মধ্যে কে বড়?

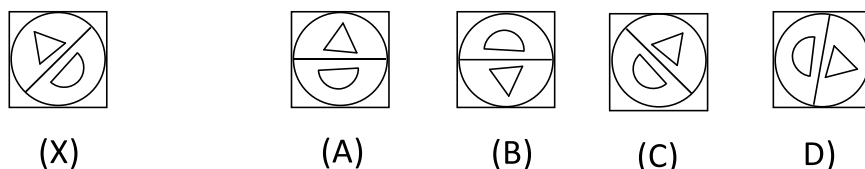
- a) M      b) N      c) Q      d) R

56. নিম্নলিখিত বিষয়গুলিকে একটি অর্থপূর্ণ ক্রমে সাজাও:

- (1) Family    (2) Community    (3) Member      (4) Country    (5) State

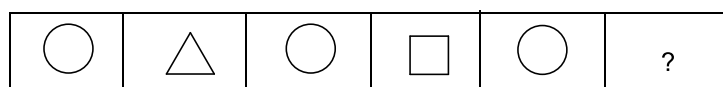
- a) 3, 1, 2, 5, 4      b) 3, 2, 1, 4, 5      c) 3, 1, 2, 5, 4      d) 3, 1, 4, 5, 2

57. প্রদত্ত চিত্র (X) এর সঠিক দর্পন প্রতিবিম্ব হল:



- a) A      b) B      c) C      d) D

58. নিচের ছবিতে (diagram) অনুপস্থিত চিত্রটি (figure) হল:



- a)      b)      c)      d)

59. নিচের কোনটি অন্যদের থেকে আলাদা?

- a) r      b) M      c) D      d) T

60. নিচের কোন অক্ষরটি প্রশ্নবোধক চিহ্নের পরিবর্তে বসবে?

A	D	G
J	M	?
S	V	Y

- a) Z      b) X      c) S      d) P

61. যদি A, B এর মা হয় এবং B, C এর ভাই হয়, তাহলে A এর সাথে C এর সম্পর্ক কী?

- ক) ঠাকুমা      খ) মা      গ) পিসি      ঘ) বোন

62. কোন সময়ে ঘড়ির মিনিটের কাঁটা এবং ঘন্টার কাঁটা একে অপরের ঠিক বিপরীতে থাকবে?

ক) ৬:০০

খ) ৩:০০

গ) ৮:০০

ঘ) ৯:০০

63. নিচের কোন শব্দটি এই গ্রুপের অন্তর্গত নয়?

ক)মাইল

খ) সেন্টিমিটার

গ) লিটার

ঘ) গজ

64. প্রদত্ত বিকল্পগুলি থেকে সম্পর্কিত শব্দটি নির্বাচন করো:

Scooter : Wheels :: Helicopter : ?

a) Fly

b) Eagle

c) Pilot

d) Wings

65. নিচের প্রাণীগুলোকে তাদের আকার অনুসারে ক্রমবর্ধমান ক্রমে সাজাও।

(1) Dog

(2) Horse

(3) Ant

(4) Giraffe

(5)

Mouse

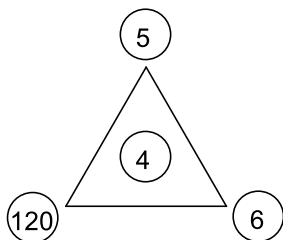
a) 3, 1, 5, 2, 4

b) 3, 5, 1, 2, 4

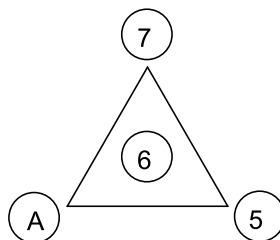
c) 3, 5, 1, 4, 2

d) 3, 5, 2, 4, 1

66. চিত্র-২-এ 'A' কত হবে? চিত্র-১ এর সাহায্য নাও।



(Diagram - I)



(Diagram - II)

'A' is:

a) 120

b) 150

c) 180

d) 210

67. নিচের কোন সংখ্যাটি অন্য সংখ্যাগুলো থেকে আলাদা?

27	51	45	36
----	----	----	----

উত্তর হল:

a) 27

b) 36

c) 45

d) 51

68. পঞ্চম বাক্সে অনুপস্থিত সংখ্যাটি কত?

1025	1225	1525	1725	?
------	------	------	------	---

উত্তর হল: a) 1125

b) 1525

c) 2025

d) 2125

69. Box এ অনুপস্থিত সংখ্যাটি হল \_\_\_\_\_।

10	11	6
7	?	15
13	12	9

- a) 5                      b) 6                      c) 7                      d) 9

70. ১০৫ মিনিট এবং ১ ঘন্টা ৫ মিনিটের যোগফল থেকে ৬৫ মিনিট বিয়োগ করো। উত্তর হল:

- ক) ১ ঘন্টা ৪৫ মিনিট                      খ) ১ ঘন্টা ৩৫ মিনিট  
গ) ৮৫ মিনিট                      ঘ) ১১৫ মিনিট

71. তুলি একটি পরীক্ষায় প্রথম থেকে একাদশ এবং নীচে থেকে দশম স্থান অধিকার করে। তার ক্লাসে শিক্ষার্থীর সংখ্যা হল:

- ক) ১০                      খ) ১১                      গ) ২০                      ঘ) ২১

72. ভুল মিলটি নির্বাচন করো:

- a) XX = 20      b) XXX = 30      c) XL = 40      d) LX = 50

73. গ্রীষ্মের ছুটিতে রহিম একটি বইয়ের ১৪৬ থেকে ৩৯৭ পৃষ্ঠা পর্যন্ত পড়েছিল। সে কত পৃষ্ঠা পড়েছিল?

- ক) ২৫২                      খ) ২৫১                      গ) ২৫০                      ঘ) ২৫৩

74. এক কোটির জন্য সংখ্যায় একের পরে কতটি শূন্য থাকে?

- ক) ৫                      খ) ৭                      গ) ৬                      ঘ) ৮

75. তৃতীয় চিত্রে অনুপস্থিত সংখ্যাটি হল:

3	6
5	7
21	

5	8
2	6
21	

?	7
4	6
21	

- a) 3                      b) 4                      c) 5                      d) 6

76. এক মিলিয়ন এর এক পঞ্চমাংশ হল \_\_\_\_\_।

- ক) ১ লক্ষ                      খ) ৩ লক্ষ                      গ) ২ লক্ষ                      ঘ) ৪ লক্ষ

77. ক্ষুদ্রতম ৩-অঙ্কের সংখ্যা এবং ক্ষুদ্রতম ২-অঙ্কের সংখ্যার মধ্যে পার্থক্য কত?

ক) ৯০ খ) ৯০০ গ) ৯৮৯ ঘ) ১

78. Box এ সঠিক প্রতীকটি হল:

89  88

a) > b) < c)  $\approx$  d)  $\leq$

79. নিচের কোন সংখ্যাটি ৩ দ্বারা বিভাজ্য নয়?

ক) ৮৭ খ) ৭২ গ) ৮৪ ঘ) ৯৭

80. নিচের কোনটি  $১৫ \times ১০$  এর সমান?

ক)  $১০ \times ১৩ + ১০$  খ)  $১৫ \times ৯ + ১৩$

গ)  $১৮ \times ৮ + ৬$  ঘ)  $২০ \times ৮ + ১০$

81. যে অক্ষরটি 'LANDSCAPE' এ দুবার, 'PLACED' তে একবার, কিন্তু 'SEND' তে নেই, সেটি হল \_\_\_\_\_

a) P b) L c) E d) A

82. যদি IRAN = ১৬, INDIA = ২৫, তাহলে BHUTAN =?

ক) ৩২ খ) ৩৪ গ) ৩৬ ঘ) ৩৮

83. যদি একটি ট্রেন ৬০ কিমি/ঘন্টা বেগে চলে, তাহলে ১২০ মিনিটে এটি কত দূরত্ব অতিক্রম করবে?

ক) ১২০ মিটার খ) ১২০ কিমি গ) ১২০ মাইল ঘ) ১২০ সেমি

84.  $(x + y) \times (x - y)$  এর মান \_\_\_\_\_, যখন  $x = ৬$  এবং  $y = ৫$ ।

ক) ১১ খ) ১২ গ) ১৩ ঘ) ১৪

85. রমা, ঋতিকার অর্ধেক বেলুন ভেঙেছে। তারা মোট ১৮টি বেলুন ভেঙেছে। রমা কয়টি বেলুন ভেঙেছে?

ক) ৯ খ) ৬ গ) ১২ ঘ) ৭

86. পরেশ ৩২টি বেসবল কার্ড দিয়ে শুরু করেছিলেন। তিনি ৮টি কার্ড বিক্রি করেছিলেন। তারপর আরও ১২টি কার্ড কিনেছিলেন। এখন তার কাছে কতটি কার্ড আছে?

ক) ৩৪

খ) ৪০

গ) ৪৪

ঘ) ৩৬

87. অভয়ের ভাই অনিল। অভয় অমরের ছেলে। অতনু অমরের বাবা। সম্পর্কের দিক থেকে অতনু অনিলের কে হয়?

ক) ছেলে

খ) দাদু

গ) নাতি

ঘ) ভাই

88. জল, দুধ এবং রস হল \_\_\_\_\_ এর উদাহরণ।

ক) তরল

খ) কঠিন

গ) গ্যাসীয়

ঘ) কোনটিই নয়

89. নিচের কোনটি জলবাহিত রোগ?

ক) টাইফয়েড

খ) কলেরা

গ) ডায়রিয়া

ঘ) এই সবগুলো

90. শব্দ দূষণ পরিমাপ করা হয় \_\_\_\_\_ এ।

ক) ওহম

খ) মিটার

গ) ডেসিবেল

ঘ) কিলোগ্রাম

91. মার্কিন যুক্তরাষ্ট্রের পতাকায় উপস্থিত তারার সংখ্যা হল:

ক) ৪৮

খ) ৪৯

গ) ৫০

ঘ) ৫১

92. ভারতীয় মহাকাশ সংস্থার নাম হল:

a) NASA

b) JAXA

c) ESA

d) ISRO

93. ভারতের জাতীয় জলজ প্রাণী হল:

ক) গঙ্গার ডলফিন

খ) কচ্ছপ

গ) জেলিফিশ

ঘ) মাছ

94. ভারতের প্রথম জেনারেল পোস্ট অফিস (GPO) প্রতিষ্ঠিত হয়েছিল:

ক) মুম্বাই

খ) কলকাতা

গ) দিল্লি

ঘ) বেঙ্গালুরু

95. \_\_\_\_\_ 'ভারতের কমলা রাজধানী' নামে পরিচিত।

ক) আসাম

খ) দার্জিলিং

গ) ভুবনেশ্বর

ঘ) নাগপুর

96. কোন পর্বতমালা ভারতকে নেপাল থেকে পৃথক করেছে?

ক) কারাকোরাম    খ) বৃহৎ বিভাজক সীমা    গ) হিমালয়    ঘ) আল্পস

97. কে "ভারতে নাইটিঙ্গেল" নামে পরিচিত?

ক) সরোজিনী নাইডু

খ) পি. টি. উষা

গ) আশা ভোঁসলে

ঘ) মাতঙ্গিনী হাজরা

98. 'ATM' এর পূর্ণরূপ হল:

a) Authentic Teller Machine

b) Automated Teller Machine

c) Automated Teller Machine

d) Automated Transfer Machine

99. ভূত্বকের দুর্বল অঞ্চলের নাম কী?

a) Cosmic

b) Seismic

c) Formic

d) Anaemic

100. সৌরজগতের সবুজ গ্রহটি কী?

ক) মঙ্গল

খ) পৃথিবী

গ) ইউরেনাস

ঘ) শুক্র

### **ROUGH WORK**

**SATCHASI CHHATRA MANGAL MERIT SEARCH TEST 2025**  
**(SCMMST 2025)**

SUBJECT ABILITY TEST (SAT)-2025

Class – V

(English Version)

1 x 50 = 50

- 
1. The synonym of gently is \_\_\_\_\_.  
a) harshly      b) softly      c) rudely      d) cleverly
2. The short form of we will is \_\_\_\_\_.  
a) w'ell      b) wel'l      c) we'll      d) well'
3. Rahul came \_\_\_\_\_ my house this morning.  
a) to      b) of      c) for      d) into
4. The opposite of the word curly is \_\_\_\_\_.  
a) long      b) plain      c) curved      d) straight
5. The past form of cut \_\_\_\_\_.  
a) cuted      b) cutted      c) cut      d) cuting
6. What a nice dress it is \_\_\_\_\_.  
Choose the correct punctuation mark to complete the sentence.  
a) !      b) .      c) ;      d) ?
7. The passengers \_\_\_\_\_ angry because the driver was \_\_\_\_\_ the bus carelessly.  
a) look, drives      b) looking, drives      c) looks, drive      d) looked, driving
8. In which of the following words, sound of 'K' is silent?  
a) Kangaroo      b) Kitten      c) Knew      d) King
9. You meet a friend after a long time. You will say to him / her first:  
a) Hello! Where have you been?      b) Hi! Who are you?  
c) You look rather busy.      d) What's your name?
10. The correct structured sentence is:  
a) I bought have a sheep from a village.      b) I bought from a sheep have a village.  
c) I have bought a sheep from a village.      d) A sheep from a village I have bought.

11. When did you complete your work?

The answer for the above question is:

- a) I work in an office.                      b) I go to office at 10:00 am.  
c) I work five days a week.              d) I completed my work at 2:00 pm.

12. The sentence with correct capitalisation is:

- a) Ram will go to kolkata on Monday.      b) Ram will go to Kolkata on Monday.  
c) Ram will go to Kolkata on monday.      d) Ram will go to kolkata on monday.

13. আদল মানে \_\_\_\_\_.

- ক) সাদৃশ্য                      খ) স্বীকার                      গ) মজুরী                      ঘ) সরলতা

14. হিমালয় ছাড়া ভারতের অন্য পর্বতটি হল \_\_\_\_\_.

- ক) কিলিমাঞ্জারো      খ) আন্দেস      গ) রকি      ঘ) আরাবল্লী

15. 25 Students are standing in a line. If Tarun is in the middle, then what is his position from left as well as from, right?

- a) 12th      b) 13th      c) 14th      d) 15th

16. Which of the following is different from the others?

- a) 10000 ones      b) 10 hundreds      c) 100 tens      d) 1 thousand

17. Rohan bought 50 litre oil. He used 44 litres 300 ml of it. How much oil is left?

- a) 7 litre 700 ml      b) 6 litre 700 ml      c) 5 litre 300 ml      d) 5 litre 700 ml

18. Smallest form of the fraction  $\frac{75}{165}$  is \_\_\_\_\_.

- a)  $\frac{3}{11}$                       b)  $\frac{5}{11}$                       c)  $\frac{5}{12}$                       d)  $\frac{7}{13}$

19. For a bamboo,  $\frac{1}{7}$  part is red,  $\frac{2}{7}$  is green and  $\frac{3}{7}$  is yellow. The part of the bamboo which is not coloured is \_\_\_\_\_.

- a)  $\frac{1}{7}$                       b)  $\frac{2}{7}$                       c)  $\frac{3}{7}$                       d)  $\frac{4}{7}$

20. Look at this series: 7, 10, 8, 11, 9, 12, \_\_\_\_\_. What number should come next?

- a) 7                      b) 10                      c) 12                      d) 13

21. \_\_\_\_\_  $\times 27 = 729$ . The missing number is:

- a) 23                      b) 26                      c) 27                      d) 29

22. Malay scored 39 marks out of 60 in Maths. The percentage of marks is \_\_\_\_\_.

- a) 56                      b) 60                      c) 63                      d) 65



23. A rectangular field is 35 meter long and 25 meter wide. How many meter does it take to walk around the edge of the field once?

- a) 60      b) 120      c) 125      d) 130

24. Which of the following numbers is different from the others?

- a) 81      b) 121      c) 134      d) 144

25. Answer of the following mathematical expression is:

$$24 \div 4 \times (6 - 3) - 24 \div 4(6 - 3)$$

- a) 16      b) 18      c) 20      d) 24

26. The present age of Ram, Shyam and Shankar is 70 years. What was the sum of their ages 6 years ago?

- a) 50 years      b) 52 years      c) 54 years      d) 56 years

27. The capital of Tamil Nadu is \_\_\_\_\_.

- a) Kolkata      b) Chennai      c) Bangalore      d) West Bengal

28. I deliver letters and parcels to your house. I am a \_\_\_\_\_.

- a) postman      b) delivery boy      c) waiter      d) mason

29. Raksha Bandhan was started in the year:

- a) 1605      b) 1705      c) 1805      d) 1905

30. Swami Vivekananda spoke about unity in all religions in:

- a) America      b) India      c) France      d) None of those

31. Ajanta is famous for \_\_\_\_\_.

- a) oil painting      b) wood painting      c) cave painting      d) canvas painting

32. The popular folk dance of Assam is \_\_\_\_\_.

- a) Bhangra      b) Dandiya      c) Bihu      d) Ghoomar

33. He loved to listen to the songs of Tansen. He is \_\_\_\_\_.

- a) Akbar      b) Babar      c) Shah Jahan      d) Aurangzeb

34. Hazarduari palace is situated in:

- a) Konark      b) Murshidabad      c) Birbhum      d) Malda

35. The word which cannot be made from the letters of the word 'BLACKBERRY' is \_\_\_\_\_.
- a) Bicker    b) Reback    c) Cabler    d) Barley
36. The father of Indian missile technology is \_\_\_\_\_?
- a) Dr Homi Bhabha    b) Dr. Rajagopala Chidambaram  
c) Dr U.R. Rao    d) Dr A.P.J. Abdul Kalam
37. 'Light year' is a unit of \_\_\_\_\_.
- a) time    b) weight    c) distance    d) volume
38. The favourite weapon of Yudhishtira was \_\_\_\_\_.
- a) Spade    b) axe    c) gun    d) spear
39. What is the theme for 2025 World Environment Day?
- a) Land Restoration    b) Beat Plastic Pollution  
c) Only one Earth    d) Ecosystem Restoration
40. When was World Environment Day started?
- a) 1973    b) 1977    c) 1981    d) 1985
41. The full form of ORS is \_\_\_\_\_.
- a) Oral Ready Solution    b) Oral Rehydration Solid  
c) Oral Rehydration Substance    d) Oral Rehydration Solution
42. A stethoscope is used for \_\_\_\_\_.
- a) listening to internal sounds of the mind  
b) listening to internal sounds of the brain  
c) listening to internal sounds of the body  
d) listening to external sounds of the body
43. The medicine for snake bite is prepared from:
- a) Poison of the snake    b) Skin of the snake  
c) Internal organ of the snake    d) None of these
44. What is given to a sick person for getting instant energy?
- a) Chocolate    b) Ice-cream    c) Apple    d) Glucose drip

45. What is the nature of digestive juices in the stomach?  
a) acidic                      b) basic                      c) neutral                      d) salty
46. How do we come to know that food has got spoilt?  
a) by its colour    b) by its taste    c) by its smell    d) all of these
47. Salt is made from:  
a) distilled water    b) sea water    c) river water    d) drinking water
48. Change of water into water vapour is known as \_\_\_\_\_.  
a) condensation    b) sedimentation    c) evaporation    d) precipitation
49. Anaemia is caused due to the deficiency of:  
a) iron    b) copper    c) sodium    d) potassium
50. What is full form of LPG?  
a) Liquefied Power Gas                      b) Light Petroleum Gas  
c) Liberated Petroleum Gas                      d) Liquefied Petroleum Gas

MENTAL ABILITY TEST (MAT)

1 x 50 = 50

---

51. Five girls took part in a race. Bina finished before Priya but behind Latika. Garima finished before Latifa but behind Priya. Who wins the race?  
a) Latifa                      b) Latika                      c) Bina                      d) Garima
52. In a certain code 'INFORM' is written as 'FNIMRO', then 'DETECT' will be coded as:  
a) DETTCE                      b) TEDECT                      c) TEDCET                      d) TEDTCE
53. Select the odd one out:  
a) DFGH                      b) KMNO                      c) QRST                      d) RTUV
54. If yesterday was Wednesday, when will be Sunday?  
a) Tomorrow                      b) Two days after tomorrow  
c) Today                      d) Day after tomorrow

55. M is older than R, Q is younger than R and N, N is not as old as M. Who is the eldest amongst all?

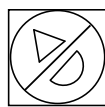
- a) M                      b) N                      c) Q                      d) R

56. Arrange the following in a meaningful order:


- (1) Family    (2) Community    (3) Member    (4) Country    (5) State

- a) 3, 1, 2, 5, 4              b) 3, 2, 1, 4, 5              c) 3, 1, 2, 5, 4              d) 3, 1, 4, 5, 2

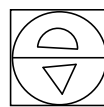
57. The correct mirror image of the given figure (X) is:



(X)



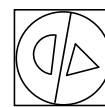
(A)



(B)



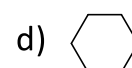
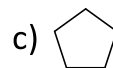
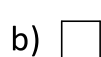
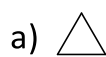
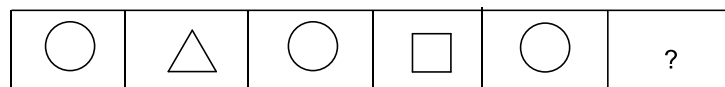
(C)



(D)

- a) A                      b) B                      c) C                      d) D

58. The missing figure in the following diagram is:



59. Which of the following is different from the others?

- a) r                      b) M                      c) D                      d) T

60. Which one of the following letters will replace the question mark?

A	D	G
J	M	?
S	V	Y

- a) Z                      b) X                      c) S                      d) P

61. If A is the mother of B, and B is the brother of C. What is A's relationship to C?

- a) Grandmother                      b) Mother                      c) Aunt                      d) Sister

62. At what time will the minute hand and hour hand of a clock be exactly opposite each other?

- a) 6:00                      b) 3:00                      c) 8:00                      d) 9:00

63. Find the odd word that does not belong to the group.

- a) Mile      b) Centimeter      c) Litre      d) Yard

64. Select the related word from the given alternatives.

Scooter : Wheels :: Helicopter : ?

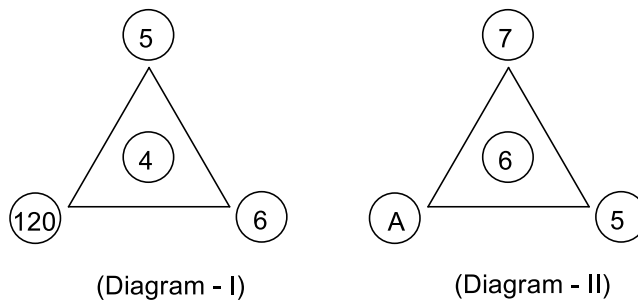
- a) Fly      b) Eagle      c) Pilot      d) Wings

65. Arrange the following animals accordingly to their size in increasing order.

- (1) Dog      (2) Horse      (3) Ant      (4) Giraffe      (5) Mouse

- a) 3, 1, 5, 2, 4      b) 3, 5, 1, 2, 4      c) 3, 5, 1, 4, 2      d) 3, 5, 2, 4, 1

66. Find 'A' in diagram-II. (Diagram-I will help you.)



- 'A' is:      a) 120      b) 150      c) 180      d) 210

67. Which of the following numbers is different from the others?

27	51	45	36
----	----	----	----

The answer is:      a) 27      b) 36      c) 45      d) 51

68. Find the missing number in the fifth box:

1025	1225	1525	1725	?
------	------	------	------	---

The answer is:      a) 1125      b) 1525      c) 2025      d) 2125

69. The missing number in the box is \_\_\_\_\_.

10	11	6
7	?	15
13	12	9

- a) 5      b) 6      c) 7      d) 9

70. Subtract 65 minutes from the sum of 105 minutes and 1 hour 5 minutes. The answer is:

- a) 1 hr 45 minutes      b) 1 hr 35 minutes      c) 85 minutes      d) 115 minutes

71. Tuli ranks eleventh from the top and tenth from the bottom in an examination. The number of students in her class is:

- a) 10      b) 11      c) 20      d) 21

72. Select the INCORRECT match:

- a) XX = 20    b) XXX = 30    c) XL = 40    d) LX = 50

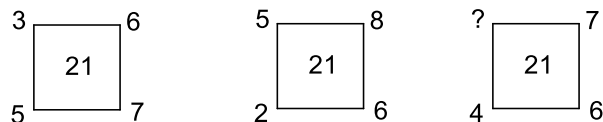
73. During summer holidays, Rahim read page 146 to page 397 of a book. How many pages did he read?

- a) 252      b) 251      c) 250      d) 253

74. How many zeroes follow one in the numeral for one crore?

- a) 5      b) 7      c) 6      d) 8

75. The missing number in the third figure is:



- a) 3      b) 4      c) 5      d) 6

76. One fifth of a million is \_\_\_\_\_.

- a) 1 lac      b) 3 lac      c) 2 lac      d) 4 lac

77. What is the difference of the smallest 3-digit number and the smallest 2-digit number?

- a) 90      b) 900      c) 989      d) 1

78. The correct symbol in the box is:

89  88

- a) >      b) <      c) ≈      d) ≤

79. Which of the following numbers is not divisible by 3?

- a) 87      b) 72      c) 84      d) 97

80. Which of the following is equal to  $15 \times 10$ ?

- a)  $10 \times 13 + 10$       b)  $15 \times 9 + 13$       c)  $18 \times 8 + 6$       d)  $20 \times 8 + 10$

81. The letter which occurs twice in 'LANDSCAPE', once in 'PLACED', but does not occur in 'SEND' is \_\_\_\_\_.

- a) P      b) L      c) E      d) A

82. If IRAN = 16, INDIA = 25, then BHUTAN =?

- a) 32              b) 34              c) 36              d) 38

83. If a train travels at 60 km/hr, how far will it travel in 120 minutes?

- a) 120 m              b) 120 km              c) 120 mile              d) 120 cm

84. The value of  $(x + y) \times (x - y)$  is \_\_\_\_\_, when  $x = 6$  and  $y = 5$ .

- a) 11              b) 12              c) 13              d) 14

85. Rama broke half as many balloons as Ritika. Altogether they broke 18 balloons. How many balloons did Rama break?

- a) 9              b) 6              c) 12              d) 7

86. Paresh started with 32 baseball cards. He sold 8 cards. Then he bought 12 more. How many cards does he have now?

- a) 34              b) 40              c) 44              d) 36

87. Abhay has a brother Anil. Abhay is the son of Amar. Atanu is Amar's father. In terms of relationship what is Anil of Atanu?

- a) Son              b) Grandfather              c) Grandson              d) Brother

88. Water, milk and juice are example of \_\_\_\_\_.

- a) Liquid              b) Solid              c) Gas              d) None of these

89. Which of the following is a waterborne disease?

- a) Typhoid              b) Cholera              c) Diarrhoea              d) All of these

90. Noise pollution is measured in \_\_\_\_\_.

- a) Ohm              b) Meter              c) Decibel              d) Kilogram

91. The number of stars present in US (United States) flag is:

- a) 48              b) 49              c) 50              d) 51

92. The name of the Indian Space Agency is:

- a) NASA              b) JAXA              c) ESA              d) ISRO

93. The National aquatic animal in India is:

- a) Ganges Dolphin              b) Tortoise              c) Jellyfish              d) Fish

94. The first General Post Office (GPO) in India was established in:

- a) Mumbai              b) Calcutta              c) Delhi              d) Bengaluru

95. \_\_\_\_\_ is known as the 'Orange Capital of India'.

- a) Assam                      b) Darjeeling                      c) Bhubaneswar                      d) Nagpur

96. Which mountain range separates India from Nepal?

- a) Karakoram      b) Great Dividing Range      c) The Himalayas      d) Alps

97. Who is known as the "Nightingale in India"?

- a) Sarojini Naidu      b) P. T. Usha      c) Asha Bhosle      d) Matangini Hazra

98. Full form of 'ATM' is:

- a) Authentic Teller Machine                      b) Automated Teller Machine  
c) Automated Teller Machine                      d) Automated Transfer Machine

99. What is the name of the weak zone of the earth's crust?

- a) Cosmic      b) Seismic      c) Formic      d) Anaemic

100. The green planet in the solar system is?

- a) Mars      b) Earth      c) Uranus      d) Venus

### **ROUGH WORK**